

Correction des exercices du lundi 18 mai et du mardi 19 mai 2020

Lundi 18 mai 2020

Écriture

Écris cette phrase en attaché dans ton cahier.

Arthur se prépare à l'attaque, court, fait un roulé- boulé.

Arthur se prépare à l'attaque, court, fait un roulé- boulé.

Mathématiques

- Tu fais du calcul mental.

Compte de 2 en 2 jusqu'à 50 sur le tableau des nombres:

0, 2, 4, 6, 8,

10, 12, 14, 16, 18,


20, 22, 24, 26, 28,

30, 32, 34, 36, 38,

40, 42, 44, 46, 48,

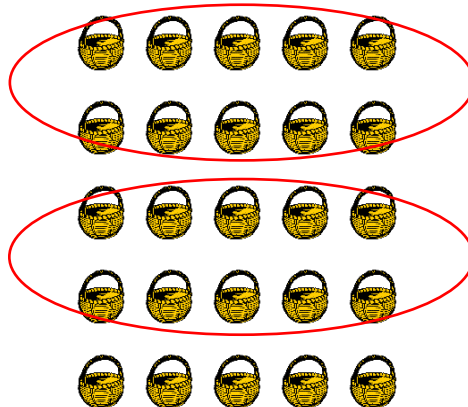
50

• Exercice : fais des paquets de 10 et complète le tableau.



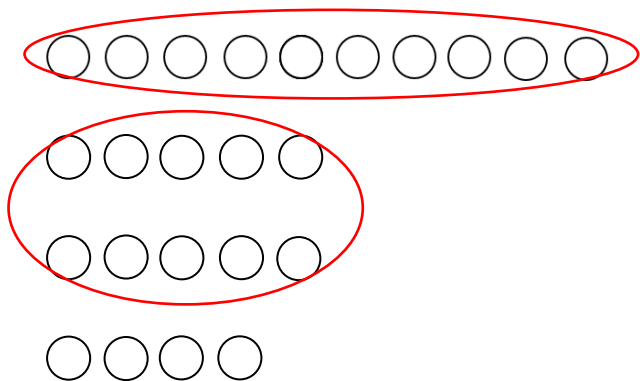
4	1

C'est le nombre : 41



2	5

C'est le nombre : 25



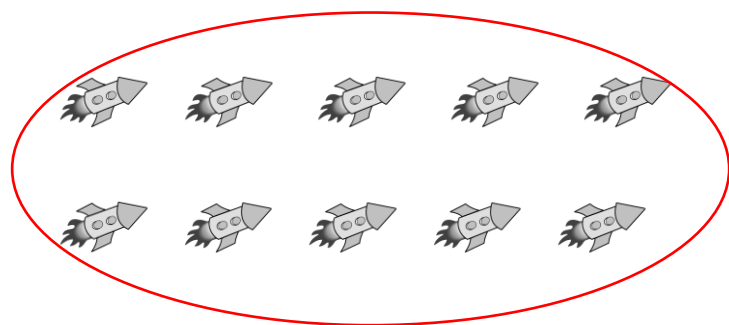
2	4

C'est le nombre : 24




0	9

C'est le nombre : 9



1	0

C'est le nombre : 10



3	0

C'est le nombre : 30

Mardi 19 mai 2020

Lecture

Exercice : mets les mots en ordre pour former une phrase.

est	Arthur	un crack du karaté	•
2	1	3	4

Arthur est un crack du karaté. •

tombe	La brique	sur le pied d'Arthur	•
2	1	3	4

La brique tombe sur le pied d'Arthur. •

son kimono	n'a pas mis	Arthur	•
3	2	1	4

Arthur n'a pas mis son kimono. •

Mathématiques

- Tu fais du calcul mental.

Compte de 2 en 2 jusqu'à 50 sur le tableau des nombres:

0, 2, 4, 6, 8,

10, 12, 14, 16, 18,

20, 22, 24, 26, 28,

30, 32, 34, 36, 38,

40, 42, 44, 46, 48,

50

- Tu calcules les additions.

$$10 + 5 = 15$$

$$11 + 7 = 18$$

$$20 + 4 = 24$$


$$3 + 16 = 19$$

$$6 + 22 = 28$$

$$5 + 21 = 26$$

- Tu vas résoudre un petit problème :

Problème:



Timéo a dans sa trousse
4 crayons verts, 3 crayons rouges
et 6 crayons jaunes.

♥ **Combien a-t-il de crayons ?**

$$4 + 3 + 6 = 13$$

♣ Il a 13 crayons.