

Lundi 18 mai 20

Correction

1 : Révisions en français :

- Phonologie - suppression de syllabe

poridu - vidu;

tokali - kali ;

tipango - pango ;

banidé - idé ;

zofitu - fitu ;

kossila - sila ;

buliva - liva ;

rétouda - touda ;

valoté - loté ;

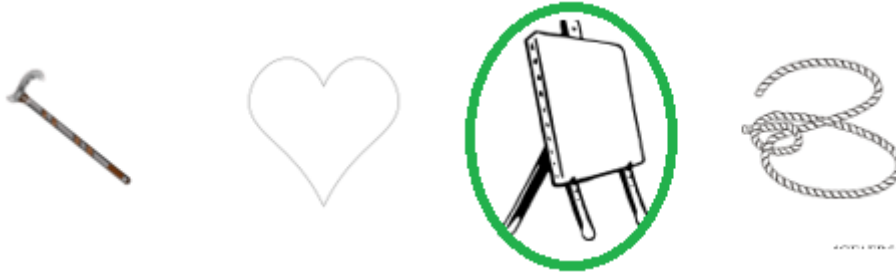
soguté - guté

- Dénombrer des phonèmes dans un mot.


Mots ayant 1 phonème (1 rond)	Mots ayant 2 phonèmes (2 ronds)	Mots ayant 3 phonèmes (3 ronds)
haut [o]	rue [r][u] dont [d][on] veau [v][a] tes [t][é] vos [v][o] vent [v][an]	brin [b][r][in] bal [b][a][l] corps [k][o][r] sœur [s][œu][r] pli [p][l][i] trop [t][r][o]

- Ecris dans le cahier : Conscience phonologique

Entoure l'image du mot qui ne commence pas comme les autres.



Les mots sont : canne ; cœur ; toile ; corde.



Les mots sont : mur ; nez ; mie ; mât.



Les mots sont : cil ; gel ; sel ; sol.



Les mots sont : barre ; pile ; baignoire ; bulles.



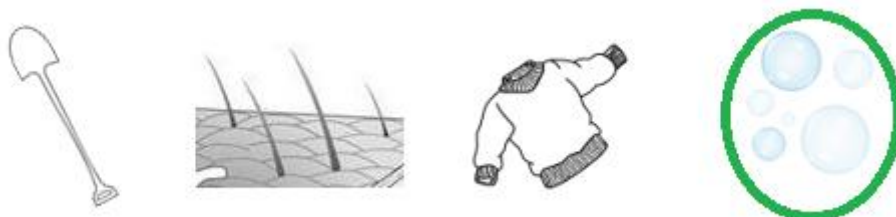
Les mots sont : bus ; boite ; pince ; balle.



Les mots sont : dent ; daim ; dame ; baignoire.



Les mots sont : sac ; sel ; sol ; colle.



Les mots sont : pelle ; poil ; pull ; bulles.



20



Les mots sont : poupée ; verre ; vingt ; vent.



Les mots sont : cruche ; tour ; tronc ; train.

2 : Révisions en mathématiques

- Écris les nombres suivants en chiffres ;

deux 2

quatorze 14

vingt-sept 27

cinquante 50

quarante-quatre 44

soixante-treize 73.

- Écris les nombres suivants en lettres ;

8 huit

12 douze

30 trente

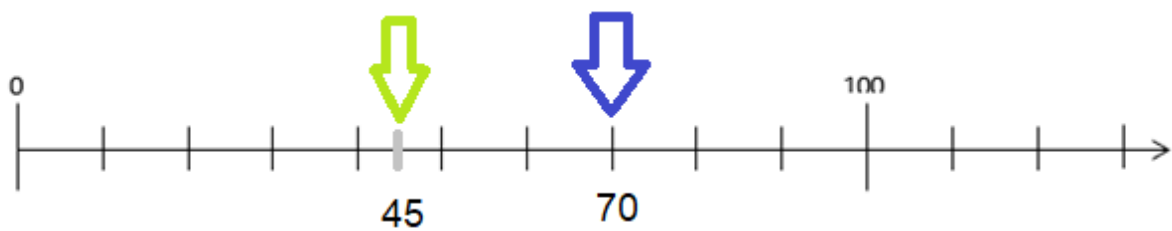
53 cinquante-trois

78 soixante-dix-huit.

- Écris dans les étiquettes vides le nombre correspondant au point indiqué par la flèche

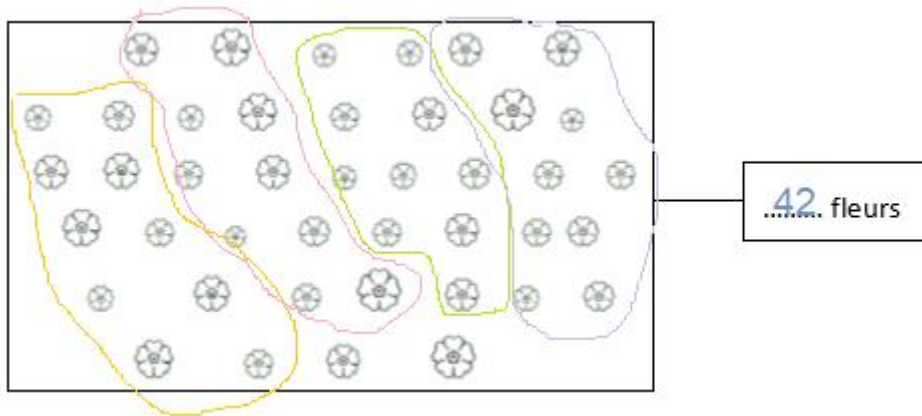


- Indique par une flèche bleue la position du nombre 70 sur la droite graduée et par une flèche verte la position du nombre 45.

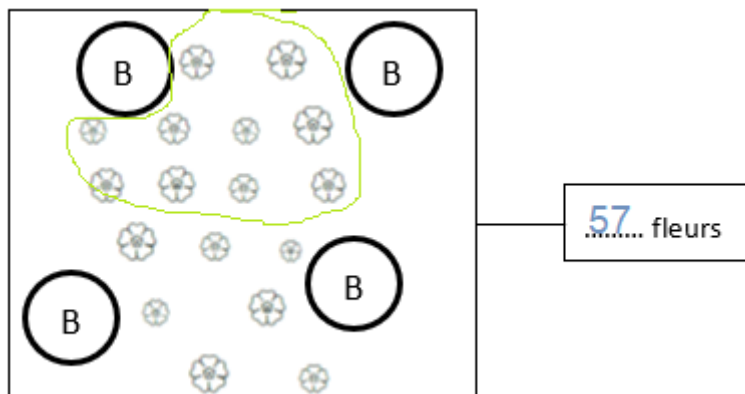


- Numération : Compte et écris le nombre total de fleurs

Exercice 1



Exercice 2



2 : Les activités du jour

Français :

Lecture et compréhension de l'écrit

- Entoure les lettres qui correspondent au son que tu entends au début du mot.

	en	ou	on	oi	in
	en	ou	on	oi	in
	en	ou	on	oi	in
	en	ou	on	oi	in
	en	ou	on	oi	in

- Écris la première syllabe des mots.



poi



bui



vi



poin

- Écris la dernière syllabe des mots.



nou



man







teur



mion

- Entoure le mot qui correspond au dessin.

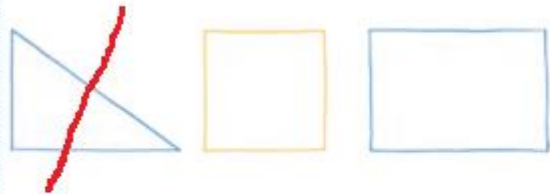
	campagne montagne campagnol camping		pois mois bois doigt
	cousin coussin poisson poussin		voleur volets volcan volant
	fanfare fantôme fanfaron enfant		pointe pointu pointure poing
	tousse trousse pousse rousse		poussin poison buisson poisson

- Lis et fais ce qui est demandé.


Entoure le cartable.



Barre le triangle.



Colorie la poule en noir.



Écris la date.

Lundi 18 mai 2020


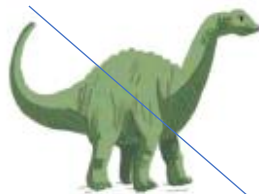
- Lis ce texte et réponds aux questions.

Driiiiing ! Ce n'est pas toujours facile d'être fermière, tu sais. Tes moutons ont faim dès le matin, tu dois les nourrir. Parfois, les taureaux se salissent et il faut les laver. Les salades et les tomates du potager doivent être arrosées tous les jours. Des petits poussins naissent sans cesse à la ferme. Tu dois en prendre soin !

• Qui s'occupe de cette ferme ? Entoure la bonne réponse.

un fermier - une infirmière - une fermière - un potager

• Barre les animaux qui ne sont pas dans cette ferme.



• Dans la phrase, remplace le mot « bêtes » par le mot qui convient.

« Tes **moutons** ont faim dès le matin. »

• Relie le début et la fin de chaque phrase.

Tes moutons ont faim,		et tu dois en prendre soin.
Les taureaux se salissent		tu dois les nourrir.
Des poussins naissent		doivent être arrosées.
Les salades et les tomates		et il faut les laver.

Étude de la langue

- Complète les mots.



des fri...tes



un glo...be



une cla...sse



un cra...be

- Écris les mots.



un marin



un panda



un pneu



un chanteur



une marionnette



un chignon



une plante



un tiroir

Mathématiques :

Nombres et calcul

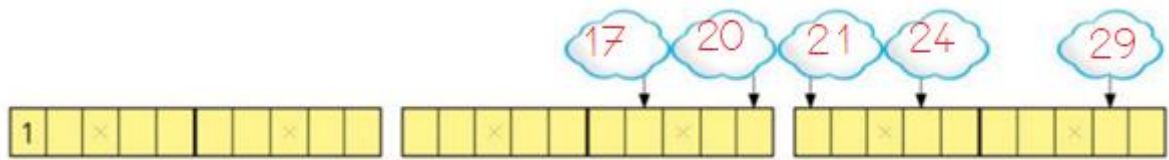
- Range du plus petit au plus grand : 30 - 15 - 8 - 41 - 19 - 24

8 < 15 < 19 < 24 < 30 < 41

- Range du plus grand au plus petit : 14 - 49 - 28 - 7 - 35 - 20

49 > 35 > 28 > 20 > 14 > 7

- Complète les nuages



- Calcule les sommes en ligne.

$5 + 9 = 14$

$8 + 5 = 13$

$10 + 7 = 17$

$7 + 5 = 12$

$5 + 6 = 11$

$10 + 10 + 5 = 25$

$6 + 6 = 12$

$9 + 9 = 18$

$10 + 10 + 10 + 5 + 2 = 37$

- Calcule les soustractions en ligne.

$9 - 8 = 1$

$9 - 3 = 6$

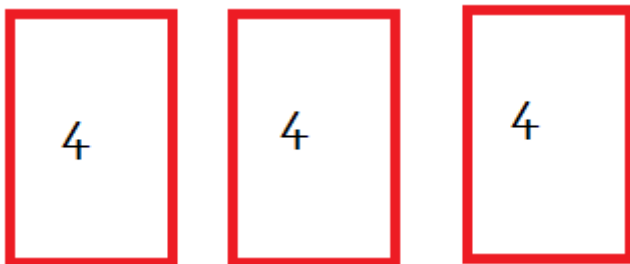
$7 - 5 = 2$

$8 - 4 = 4$

$10 - 2 = 8$

$10 - 6 = 4$

- Problème :



$4 + 4 + 4 = 12$

Chaque lapin aura 4 carottes.

