



Sens des opérations

Représenter une situation.

Identifier l'opération.

Problèmes

Fiche n°

lundi mardi mercredi jeudi vendredi samedi dimanche



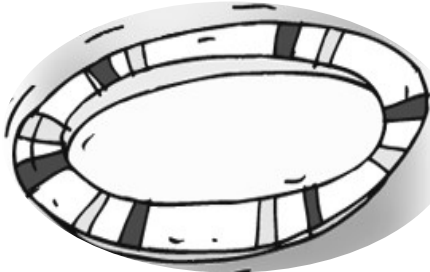
/ /

1

netit



J'entoure dans le texte ce que je vais dessiner, je complète le dessin, puis je réponds.



Dans une assiette, il y a **3 pommes**, dans l'autre il y a 4 poires.

♥ Combien de fruits y a-t-il en tout ?



♣ Il y a _____ fruits .

2




Mathys a **3 chats**, 2 chiens et 3 hamsters.

♥ Combien d'animaux a-t-il en tout ?



♣ Il a _____ animaux.

3



Dans la tirelire il y avait **6 €**. Lily a perdu une dent et la petite souris lui a déposé 4€ sous l'oreiller.

♥ Combien d'argent a-t-elle maintenant ?



♣ Lily a _____ €.



Sens des opérations

Représenter une situation.

Identifier l'opération.

Problèmes

Fiche n°

lundi | mardi | mercredi | jeudi | vendredi | samedi | dimanche



/ /


1

netit



manca

J'entoure dans le texte ce que je vais dessiner, je complète le dessin, puis je réponds.




8 oiseaux se sont posés dans l'arbre.
5 oiseaux vont s'envoler.

♥ Combien en restera-t-il dans l'arbre ?

◆

♣ Il restera ____ oiseaux.

2




Lylou a allumé 10 bougies pour son anniversaire, elle souffle mais n'éteint que 7 bougies.

♥ Combien de bougies restent allumées ?

◆

♣ Il reste ____ bougies allumées.

3



Dans la tirelire il y avait 9 €. Jules a pris 3 € pour s'acheter un livre.

♥ Combien reste-t-il dans la tirelire ?

◆

♣ Il reste ____ €.