



Sens des opérations

Représenter une situation.

Identifier l'opération.

Problèmes


Fiche n°

lundi mardi mercredi jeudi vendredi samedi dimanche




/ /

1



J'entoure dans le texte ce que je vais dessiner, je complète le dessin, puis je réponds.



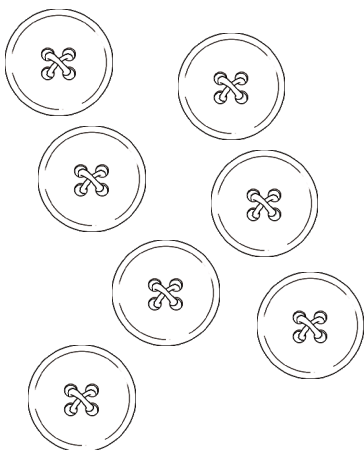
9 canards se promènent dans la mare, mais 3 canards s'envolent.

♥ Combien en reste-t-il sur l'eau ?



♣ Il reste _____ canards sur l'eau.

2




Léa a 7 boutons à son manteau, elle en perd 2 .

♥ Combien lui en reste-t-il ?



♣ Il lui reste _____ boutons.

3



Inès fait un collier de perles, elle a mis 8 perles rouges , puis elle ajoute 7 perles bleues .

♥ Combien y a-t-il de perles dans le collier ?



♣ Il y a _____ perles



Sens des opérations

Représenter une situation.

Identifier l'opération.

Problèmes

Fiche n°

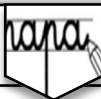
lundi mardi mercredi jeudi vendredi samedi dimanche



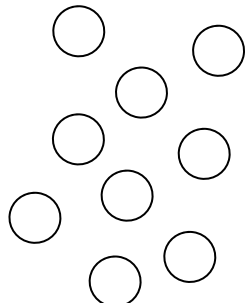
/ /

1

netit



J'entoure dans le texte ce que je vais dessiner, je complète le dessin, puis je réponds.




Léo a **9 billes** , il en gagne 4 à la récréation.

♥ **Combien a-t-il de billes maintenant ?**



♣ Léo a billes

2




Adèle a **10 bonbons** elle en donne 4 à ses amies.

♥ **Combien lui en reste-t-il ?**



♣ Il lui reste bonbons

3



Lucia a **12 crayons** dans sa trousse, 5 crayons sont rouges Les autres sont bleus.

♥ **Combien a-t-elle de crayons bleus ?**



♣ Lucia a crayons bleus