



Sens des opérations

Identifier la situation finale et intermédiaire.

Problèmes

Fiche n°

lundi mardi mercredi jeudi vendredi samedi dimanche



/ /




1

netit



J'entoure dans le texte ce dont j'ai besoin.




Enzo a mis 12 balles dans la boîte. Laura ajoute 5 balles.

♥ **Combien de balles y a-t-il dans la boîte ?**



♣ Il y a ____ balles .

2




Evan a mis 18 balles dans la boîte. Zoé en retire 7.

♥ **Combien de balles y a-t-il dans la boîte ?**



♣ Il y a ____ balles .

3



Tom a mis 17 balles dans la boîte, Lucie retire des balles, il y a 15 balles maintenant.

♥ **Combien de balles Lucie retire-t-elle de la boîte ?**



♣ Lucie retire ____ balles .