



Sens des opérations

Identifier la situation finale et intermédiaire.

Problèmes

Fiche n°

lundi mardi mercredi jeudi vendredi samedi dimanche




/ /

1



J'entoure dans le texte ce dont j'ai besoin.




Lilou a mis 15 balles dans la boîte.
Inès ajoute des balles.
Il y a 20 balles maintenant.

♥ **Combien en a-t-elle ajouté ?**



♣ Inès a ajouté _____ balles .

2




Ethan a mis 23 balles dans la boîte.
Alicia en retire 6.

♥ **Combien de balles reste-t-il dans la boîte ?**



♣ Il reste _____ balles .

3



Rosa a mis 12 balles dans la boîte, Kylian prend des balles, il y a 5 balles maintenant.

♥ **Combien en a-t-il pris de la boîte ?**



♣ Kylian a pris _____ balles .