


Jeudi 23 avril

Aujourd'hui au programme : le calendrier, du français, des mathématiques et du sport !

domaine	matériel	temps
 Questionner le monde	Calendrier + cahier	10 min


Montre à tes parents la date sur le calendrier. Recopie-là sur ton cahier. Puis réponds aux questions.

Il reste combien de jours jusqu'à la fin du mois d'avril ?

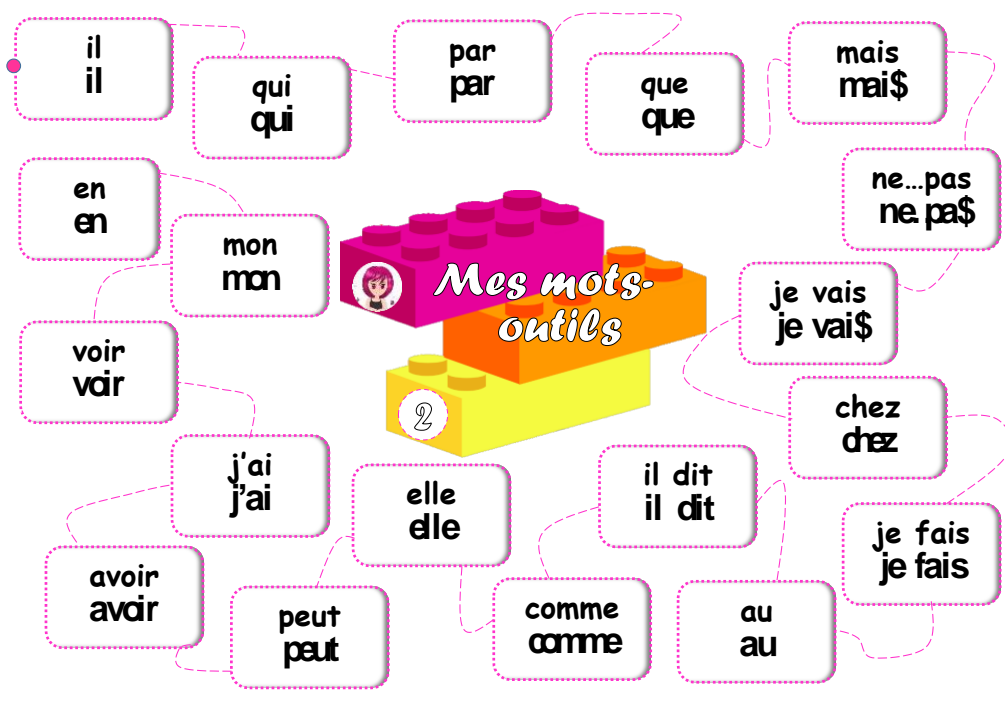
Il restejours jusqu'à la fin du mois d'avril.

Quel mois vient après avril ?

Le mois de vient après le mois d'avril.

domaine	matériel	temps
 dictée	Ton cahier + la dictée sur le blogue ou par mail	10 min


Relis la fiche deux des mots outils pour préparer la dictée



domaine	matériel	temps
 lecture	La fiche en ou lien ici	10 min



ec er el es



lec	sec	bec	rec	nec	vec
bel	pel	sel	mel	gel	rel
ves	des	mes	tes	les	ges
mer	ner	ver	der	cer	fer




Je mets l'accent en arrière et je dis « è ».
C'est le [è] de bec.

ec	er	es
la lecture	la mer	un geste
un insecte	l'hiver	une veste
un rectangle	mercredi	il reste
el	une averse	un escargot
le sel	une ferme	l'escalade
le caramel	une personne	un restaurant


Axel adore la mer et la campagne. Il va d'abord à la ferme. Dans la basse-cour, la poule attrape un ver de terre avec son bec. Au restaurant, il déguste un bon dessert au caramel. Puis, il fait une sieste sur le sable. Mais le ciel se couvre et voilà une averse ! Vite, Axel s'abrite à l'hôtel et termine sa journée par un peu de lecture.

Lis les mots et le texte . Explique bien les mots à tes parents. Si tu ne sais pas tu peux m'envoyer un message.

domaine	matériel	temps
 lecture	Lien envoyé par mail ou ici	20 min

Exercice 2

Lis Sami est malade que j'ai envoyé par mail [ici](#) puis clique sur le [lien](#) pour répondre aux questions.

Mathématiques	matériel	temps
 chaque jour compte	Ton cahier et le modèle de la fiche ici	10 min

Écris toutes les façons de faire 45 (groupe 1) ou 73 (groupe 2)



Tu peux t'aider de la fiche. Elle est aussi sur le blogue.

Complète ou dessine:

en lettres.

_____ dizaines et _____ unités

0	1	2	3	4	5	6	7	8	9
10	11	12	13	14	15	16	17	18	19
20	21	22	23	24	25	26	27	28	29
30	31	32	33	34	35	36	37	38	39
40	41	42	43	44	45	46	47	48	49
50	51	52	53	54	55	56	57	58	59
60	61	62	63	64	65	66	67	68	69
70	71	72	73	74	75	76	77	78	79
80	81	82	83	84	85	86	87	88	89
90	91	92	93	94	95	96	97	98	99

+ 1: _____

- 1: _____

dessine

Ex: 30 + 4

dessine

Conseils

Pour les abaques, à droite on dessine les unités et au milieu les dizaines

Mathématiques	matériel	temps
calcul	Lumni	15 min

Regarde la vidéo et fais les calculs demandés

Lien [ici](#)

domaine	matériel	temps
sport	Lien ici	Autant que tu veux !