


Lundi 20 avril

Aujourd'hui au programme : le calendrier, du français, des mathématiques et du dessin !

domaine	matériel	temps
 Questionner le monde	Calendrier + cahier	10 min

Montre à tes parents la date sur le calendrier. Recopie-là sur ton cahier.

domaine	matériel	temps
 lecture	La fiche en ou lien ici	10 min

ai ai



le lait

ei ei

13

treize

et et



un bonnet



Je mets l'accent en arrière et je dis « è ».
C'est le [è] de lait, treize et bonnet.

ai

un balai
la laine
une aile
un aigle
une dizaine
une chaîne

ei

seize
la peine
un peigne
une veine
une reine
une baleine

et

un secret
un poulet
un sifflet
un robinet
un tabouret
les jouets


tai	sai	lai	rai	chai	mai
nai	fai	vai	pai	cai	gai
sei	tei	rei	nei	tei	bei
jet	met	chet	let	net	ret

Leçon ai ei et

Pour la fête, je vais faire un poulet aux navets, une douzaine de madeleines et un sorbet à la pêche. Je peux aussi faire des éclairs au chocolat, mais je n'ai plus de lait ! Je vais chez la crémière : elle aura sûrement du lait frais !






Lis les mots et le texte. Explique bien les mots à tes parents. Si tu ne sais pas tu peux m'envoyer un message.

domaine	matériel	temps
---------	----------	-------

	écriture	Ton cahier	20 min
---	----------	------------	--------

Exercice 1

Écris les mots avec les lettres « ai »

				
---	---	---	--	---

Exercice 1

Utilise les mots de l'exercice 1 pour compléter les phrases.


Maman range le dans le placard.

L' plane au-dessus de la montagne

et ses deux sont immenses.

Il y a parfois de la en hiver.

La maîtresse a une boîte de

Mathématiques	matériel	temps
 chaque jour compte	Ton cahier et le modèle de la fiche ici	10 min

Écris toutes les façons de faire 39 (groupe 1) ou 78 (groupe 2)



Tu peux t'aider de la fiche. Elle est aussi sur le blogue.

Complète ou dessine:

en lettres.

dizaines et unités

+ 1: _____

- 1: _____

dessine

Ex: 30 + 4


dessine

0	1	2	3	4	5	6	7	8	9
10	11	12	13	14	15	16	17	18	19
20	21	22	23	24	25	26	27	28	29
30	31	32	33	34	35	36	37	38	39
40	41	42	43	44	45	46	47	48	49
50	51	52	53	54	55	56	57	58	59
60	61	62	63	64	65	66	67	68	69
70	71	72	73	74	75	76	77	78	79
80	81	82	83	84	85	86	87	88	89
90	91	92	93	94	95	96	97	98	99

0 10 20 30 40 50 60 70 80 90 100


Conseils

Pour les abaques, à droite on dessine les unités et au milieu les dizaines

Mathématiques	matériel	temps
 calcul	calcul@tice	15 min

Calcul mental :

Relis ta leçon sur les tours pour faire 10 car on va travailler les façons de faire 10. Clique sur niveau CP puis dans la partie « compléments à 10 » faire l'activité « le complément » à partir de ce lien calcul@tice

Mathématiques	matériel	temps
 exercices	Ton cahier	15 min

Exercice 1

Regarde bien le modèle et recopie les nombres **en lettres** de 6 à 10 sur ton cahier. Puis écris-les sans regarder le modèle.

 Les nombres de 6 à 10

6	six		
7	sept		
8	huit		
9	neuf		
10	dix		

domaine	matériel	temps
 dessin		Autant que tu veux !

Attention voilà un défi !

Fais un dessin sans jamais lever ton crayon, ce n'est pas grave si tout se touche, c'est normal !
J'attends ta photo !