



Jeudi 16 avril

Aujourd'hui au programme : le calendrier, du français, des mathématiques et une histoire !


domaine	matériel	temps
 Questionner le monde	Calendrier + cahier	10 min

Montre à tes parents la date sur le calendrier. Recopie-là sur ton cahier.

domaine	matériel	temps
 lecture	Cahier des sons ou lien ici	10 min

Relis la fiche des lettres au/eau qui font le son « o » comme Aurelle.

Lis les mots et le texte si tu peux. Explique bien les mots et le texte à tes parents. Si tu ne sais pas tu peux m'envoyer un message.

domaine	matériel	temps
 écriture	Ton cahier	20 min

Choisis un ou plusieurs mots de la fiche de lecture et fais une phrase avec ces mots. Ensuite fais le dessin.

Exercice 1

Écris les mots sous les dessins avec les lettres eau.



Exercice 2

Utilise les mots de l'exercice 1 pour compléter les phrases en-dessous.

Attention la phrase doit raconter une histoire.


J'enlève mon car il fait trop chaud.

Le arrive au port.

En été, le protège du soleil.

Léo coupe son jambon avec un

Pour Noël, tu as reçu un beau

Mathématiques	matériel	temps
 chaque jour compte	Ton cahier et le modèle de la fiche ici	10 min

Écris toutes les façons de faire 28 (groupe 1) ou 64 (groupe 2)



Tu peux t'aider de la fiche. Elle est aussi sur le blogue.

Complète ou dessine:

en lettres.

+ 1:

- 1:

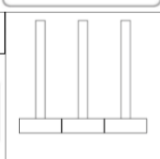
dessine

_____ dizaines et _____ unités


0	1	2	3	4	5	6	7	8	9
10	11	12	13	14	15	16	17	18	19
20	21	22	23	24	25	26	27	28	29
30	31	32	33	34	35	36	37	38	39
40	41	42	43	44	45	46	47	48	49
50	51	52	53	54	55	56	57	58	59
60	61	62	63	64	65	66	67	68	69
70	71	72	73	74	75	76	77	78	79
80	81	82	83	84	85	86	87	88	89
90	91	92	93	94	95	96	97	98	99


dessine

Ex: 30 + 4



0 10 20 30 40 50 60 70 80 90 100

 Pour les abaques, à droite on dessine les unités et au milieu les dizaines

Mathématiques	matériel	temps
 exercices	Ton cahier + la vidéo	15 min

Écoute bien cette vidéo pour revoir les nombres de 70 à 79 [ici](#)

Puis recopie l'exercice sur ton cahier

3

Compte les dizaines et les unités




	10 10 10 10 10 10 10		10 10 10 10 10 10
	10 10 10 10 10 10		

4

Décompose ces nombres en dizaines et unités.

	7 dizaines 3 unités	65	
73			6 dizaines 3 unités
	7 dizaines 8 unités	71	

domaine	matériel	temps
 écoute	Lien ici	Autant que tu veux !