


Jeudi 9 avril

Aujourd'hui au programme : le calendrier, du français, des mathématiques et des histoires !

domaine	matériel	temps
 Questionner le monde	Calendrier + vidéo + cahier	10 min

Ouvre le calendrier avec ce [lien](#) et montre à tes parents la date. Recopie-là sur ton cahier. Regarde la vidéo avec ce lien : <http://www.lumni.fr/video/le-calendrier>

Recopie sur ton cahier. Complète le tableau avec le mois avant et le mois après comme dans l'exemple.

juin	juillet	août
.....	avril
.....	décembre




Les mois de l'année

Dans un an , il y a 12 mois



- 01 -janvier
- 02 -février
- 03 -mars
- 04 -avril
- 05 -mai
- 06 -juin
- 07 -juillet
- 08 -août
- 09 -septembre
- 10 -octobre
- 11 -novembre
- 12 -décembre

domaine	matériel	temps
 lecture	Cahier des sons ou lien ici	10 min

Lis les mots sous les dessins. N'invente pas ! Demande à un parent de te montrer une image et tu lis le mot.



oin oin



oin



Je vois,



je dis



un point un point



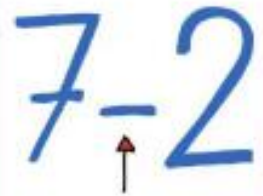
le foin



un coin



le poing



moins




le shampoing



pointu



un rond-point



la pointure



un goinfre



une pointe



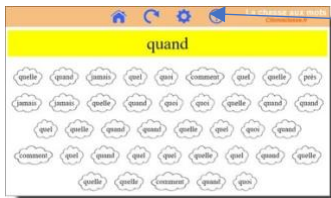
le groin



des coings

domaine	matériel	temps
	lien ici	10 min

Je vais te donner un lien pour jouer à la chasse aux mots-outils pour mieux les apprendre. Tu dois cliquer sur tous les mots qui sont comme le modèle



Cliquer ici puis dans « mots outils 1 »

lien [ici](#)

Exercice 2

A ton avis est-ce que le renard va manger le lapin ? Lis la suite pour le savoir !

Bon appétit Monsieur Lapin 10



Le renard se précipite sur lui pour le manger...

Bon appétit Monsieur Lapin 11

... mais il n'arrive qu' à lui croquer les oreilles.

Monsieur Lapin tout tremblant rentre vite chez lui.




Bon appétit Monsieur Lapin 12

Comme les carottes font pousser les oreilles des lapins, il s'en prépare une grande marmite .



Bon appétit Monsieur Lapin 13

Il trouve ça très bon. Bon appétit, Monsieur Lapin!



Mathématiques	matériel	temps
 chaque jour compte	Ton cahier et le modèle de la fiche ici	10 min

Écris toutes les façons de faire 14 (groupe 1) ou 56 (groupe 2)



Tu peux t'aider de la fiche. Elle est aussi sur le blogue.


Complète ou dessine:

en lettres:


dizaines et unités

+ 1:

- 1:

dessine 

Ex: 30 + 4

dessine 

0	1	2	3	4	5	6	7	8	9
10	11	12	13	14	15	16	17	18	19
20	21	22	23	24	25	26	27	28	29
30	31	32	33	34	35	36	37	38	39
40	41	42	43	44	45	46	47	48	49
50	51	52	53	54	55	56	57	58	59
60	61	62	63	64	65	66	67	68	69
70	71	72	73	74	75	76	77	78	79
80	81	82	83	84	85	86	87	88	89
90	91	92	93	94	95	96	97	98	99











0 10 20 30 40 50 60 70 80 90 100

Mathématiques	matériel	temps
 exercices	Ton cahier	15 min

Calcul mental :

Regarde l'affiche qu'il y avait en classe. On avait fabriqué des tours de 10 étages :

Comment faire 10

 1 + 9 = 10	 6 + 4 = 10
 2 + 8 = 10	 7 + 3 = 10
 3 + 7 = 10	 8 + 2 = 10
 4 + 6 = 10	 9 + 1 = 10
 5 + 5 = 10	 10 + 0 = 10

Maintenant prend 5 grains de riz. Il faut en rajouter pour en avoir 10. Combien tu en as rajouté ? Fais pareil pour les autres calculs : prends des grains de riz et ajoute pour en avoir 10.

Recopie le résultat sur ton cahier.

- | | |
|----------------|----------------|
| 5 + = 10 | 8 + = 10 |
| 6 + = 10 | 3 + = 10 |
| 2 + = 10 | 9 + = 10 |

Mathématiques	matériel	temps
 petit problème	Ton cahier et ta famille pour raconter l'histoire !	10 min

C *Résolution de problème* • Robotine range ses ours en peluche.


Elle a 10 ours bruns et 3 ours blancs.


Combien Robotine a-t-elle d'ours en peluche en tout ?

Ta recherche :

Robotine a ours en peluche en tout.


Recopie : _____



 **Conseils**

Pour résoudre un problème :

- Tu racontes l'histoire : tu peux demander à ta famille de faire les personnages !
- Si tu as besoin tu fais un dessin.
- Tu écris l'opération avec le résultat.
- Tu écris la phrase qui donne la réponse.

domaine	matériel	temps
 Ecoute	Lien ici	Autant que tu veux !