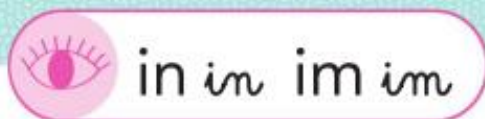


Français

Lecture

Lis les mots sous les dessins. Attention n'invente pas !

Demande à ta famille de te dire un mot et tu montres le dessin.




 Je vois,  je dis


un lapin un lapin

 une infirmière	 un inspecteur	 un incendie	 un Indien
 un requin	 un poussin	 un marin	 des coussins
 un sous-marin	 du raisin	 un pantin	 un lutin
 du romarin	 quinze	 un dauphin	 vingt
 des pinceaux	 un chimpanzé	 il grimpe	 un timbre

Écriture.



Regarde ces deux dessins. Utilise les mots en-dessous et remets-les dans l'ordre pour faire des phrases qui vont avec les dessins.

Tu peux faire 1 phrase, ou 2 ou 3 ou plus !

1 le avril. premier C'est

C'est le premier avril.

2 un accroche Le poisson dos .
magicien dans le de Tirobot .

Le magicien accroche un poisson dans le dos de Tirobot.

3 rigole beaucoup. magicien Le

Le magicien rigole beaucoup.



Si tu as du mal prends plusieurs papiers, recopie un mot par papier et bouge-les pour les remettre dans l'ordre.

Mathématiques

Calcul mental : Prends un chronomètre, calcule et écris le temps que tu as mis. Comme ça tu pourras le refaire une autre fois plus rapidement (comme dans les ateliers lecture quand j'écris dans votre fiche le temps que vous mettez)

Calcul rapide 1	
$1 + 1 = \dots 2$	$1 + 2 = \dots 3$
$2 + 1 = \dots 3$	$2 + 2 = \dots 4$
$3 + 1 = \dots 4$	$3 + 2 = \dots 5$
$1 + 4 = \dots 5$	$2 + 4 = \dots 6$
$1 + 5 = \dots 6$	$2 + 5 = \dots 7$

Comparer des nombres : recopie sur ton cahier et complète avec $>$ ou $<$

$32 \dots > \dots 28$

$19 \dots > \dots 14$


$43 \dots < \dots 51$

$31 \dots > \dots 29$



Petit problème

1 Voici les bonbons de Tirobot et Robotine.
Combien de bonbons ont-ils en tout ?

Voici les bonbons de Tirobot.



Voici les bonbons de Robotine.



Pour résoudre un problème :

- Tu racontes l'histoire : tu peux demander à ta famille de faire les personnages !
- Si tu as besoin tu fais un dessin.
- Tu écris l'opération avec le résultat.
- Tu écris la phrase qui donne la réponse.

Ta recherche

$4 + 3 = 7$

Ta phrase réponse

Ils ont 7 bonbons.

Tirobot a 4 bonbons, Robotine en a 3. On veut savoir combien ils en ont en tout. Ils les mettent ensemble donc c'est le signe +.
On écrit l'addition : $4 + 3 = 7$