


Lundi 6 avril 2020

Mathématiques


1) Écris les nombres qui manquent sur ton cahier noir.

9	10	11	12	13	14	15	16	17	18	19
---	----	----	----	----	----	----	----	----	----	----


2) Compte combien il y a de billes et écris le nombre sur ton cahier noir.



18

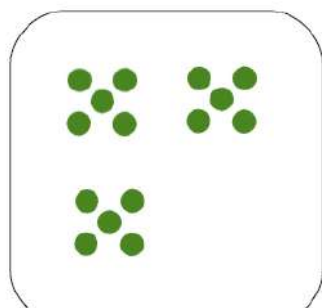


17




19

3) Dessine les billes.



15



18

Mardi 7 avril 2020

Lecture

Exercice : mets les mots en ordre pour former une phrase.

est	Gafi	dans les buts	•
2	1	3	4


Gafi est dans les buts •

emporte	Le ballon	sur un platane	Gafi	•
2	1	4	3	5


Le ballon emporte Gafi sur un platane •

Mathématiques

1) Dessine les billes.



17



19

2) Écris le nombre qui est juste avant et le nombre qui est juste après le nombre donné.

6	7	8
12	13	14
9	10	11
17	18	19
14	15	16
16	17	18

3) Écris en lettres.

17 : dix - sept

18 : dix - huit

19 : dix - neuf