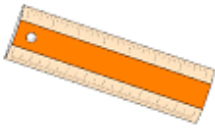


Jeudi 23 avril 2020

Correction

- Géométrie






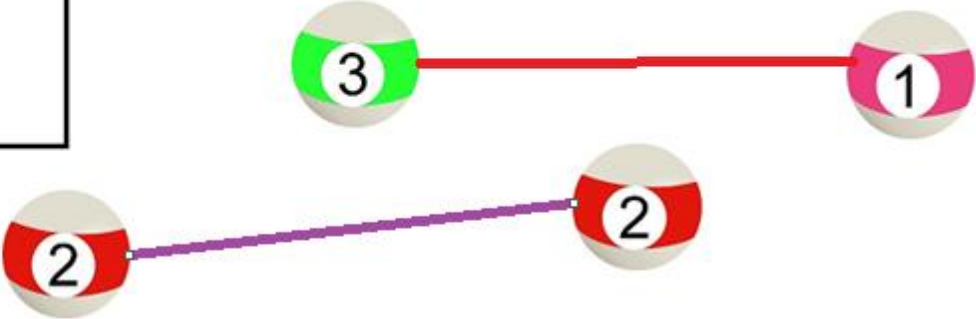
Le traceur★




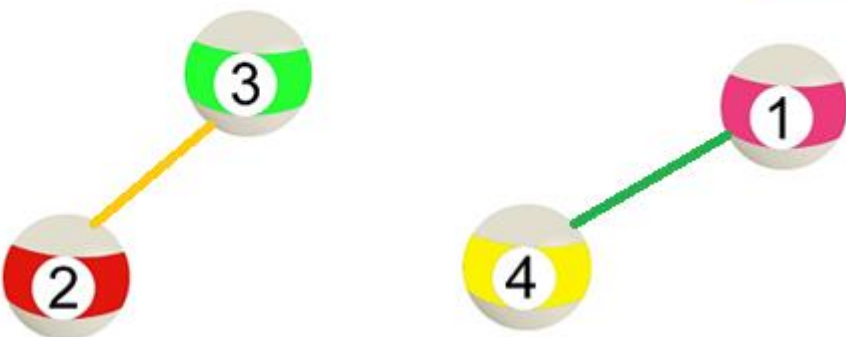
1

Relie les points de la même forme ensemble:



- Jeu du billard :

	Le Billard ★	1
 4  2		

	Le Billard ★	2
 5  2		

Mathématiques :

Classe la série de nombres dans l'ordre croissant :

28 < 76 < 89 < 92 < 97

8 < 29 < 46 < 72 < 73

Classe la série de nombres dans l'ordre décroissant :

82 > 79 > 42 > 38 > 16

99 > 89 > 23 > 14 > 12

Problème :

Première situation

$$9 + 12 + 5 + 5 = 31$$

Il y a 31 fleurs en tout.

Deuxième situation

C'est Adrienne qui a le plus d'images.

$$23 + 10 = 33$$

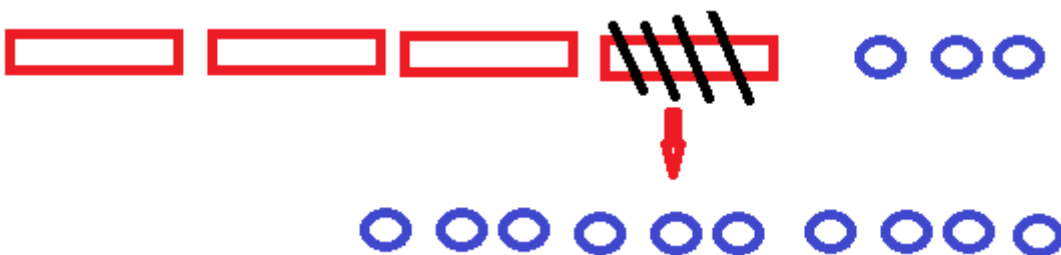
Adrienne a 33 images.

Troisième situation



Juliette a moins de billes qu'Adrienne.

Pour enlever 8 unités, je dois casser une dizaine, il reste 3 dizaines et 13 unités.



Je peux alors entourer les 8 unités en moins.



$$43 - 8 = 35$$

Juliette a 35 billes.

Questionner le monde :

- Est-ce que l'eau mise au réfrigérateur a donné de la glace ? Non, l'eau mise dans le réfrigérateur n'a pas donné de glace.
- Est-ce que l'eau mise au congélateur a donné de la glace ? Oui, l'eau mise dans le réfrigérateur a donné de la glace.
- Tu peux donc compléter : Il faut qu'il fasse vraiment très froid, comme dans un congélateur, pour que l'eau se transforme en glace.