

## Comparaison de nombres

Entoure le plus petit des deux nombres.

28 34

25 52

51 47

19 40

40 32

69 63

Complète avec < ou >.

$24 \dots 52$

$74 \dots 72$

$50 \dots 49$

$20 \dots 8$

$48 \dots 47$

$39 \dots 40$

$35 \dots 53$

$18 \dots 81$

$8 \dots 48$

$54 \dots 18$

$9 \dots 35$

$40 \dots 38$

Complète.

$50 + 10 = \dots$

$30 + 30 = \dots$

$20 + 30 = \dots$

$80 + 10 = \dots$

$20 + 50 = \dots$

$40 + 40 = \dots$

Complète.

$60 = 10 + 30 + \dots$

$90 = 30 + 30 + \dots$

$60 = 40 + 10 + \dots$

$80 = 40 + \dots + 20$

$70 = 10 + \dots + 10 + 10$

$70 = 30 + \dots + 10$



## Cache-cache dans le tableau des nombres

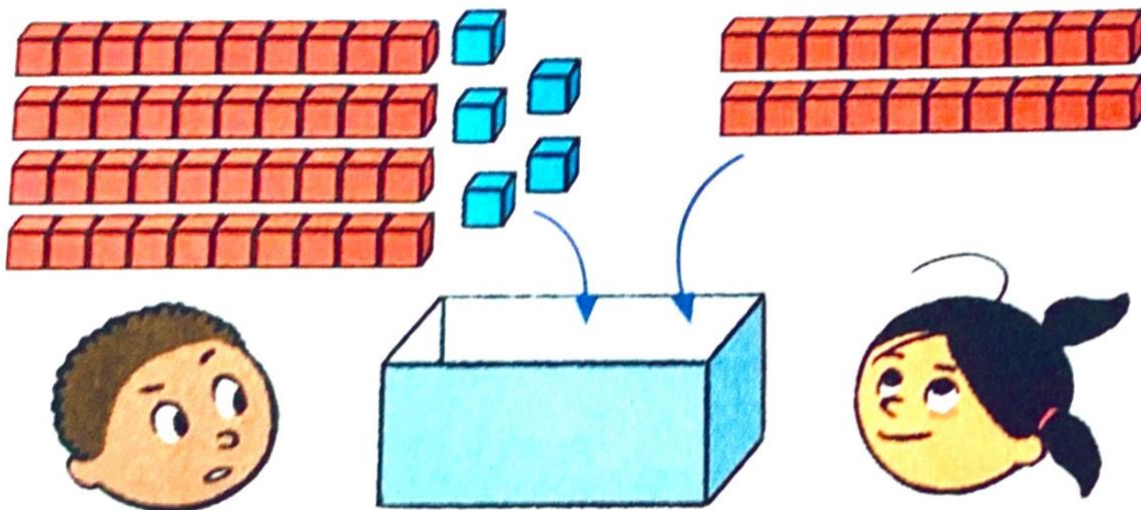
Écris ces nombres à leur place dans le tableau.

							9
	11					17	
		23					
							39
40				45			
	61						
			74				
					86		
		92					

38    75    82  
33    65  
35    97    29  
80    72



Arthur et Zoé mettent leurs cubes dans la boîte.



Combien de cubes y aura-t-il dans la boîte ?

Il y aura ..... cubes dans la boîte.

Je cherche

## LES QUESTIONS D'ARTHUR ET DE ZOÉ

Il me faut 18 œufs  
pour faire toutes  
les crêpes.



Il va manquer des œufs.  
Combien dois-je  
en acheter ?

Zoé doit encore acheter ..... œufs.

Arthur et Zoé partent avec le centre de loisirs.



Il y a 46 personnes qui  
doivent partir. Il y a de  
la place pour tous.


Arthur a-t-il raison ? **oui non**

Complète une de ces deux phrases :

**Oui**, il restera ..... places vides.

**Non**, il manquera ..... places.

Arthur et Zoé ont pris tous les biscuits qui étaient dans cette boîte.



J'en ai pris 2  
de plus qu'Arthur.



Combien de biscuits Arthur a-t-il pris ?


Arthur a pris ..... biscuits.

Combien de biscuits Zoé a-t-elle pris ?

Zoé a pris ..... biscuits.

### Problèmes

Combien de balles reste-t-il  
dans la boîte ?



Il reste ..... balles dans la boîte.

Arthur avait dessiné 29 fusées.  
Combien de fusées y a-t-il sous la tache ?



Il y a ..... fusées sous la tache.

A l'aide des étiquettes, écris les nombres en lettres.

77

soixante dix huit sept

95

neuf quatre vingt cinq quinze

97

sept dix neuf quatre vingt