



Je révisé pendant les vacances

Jour 5 semaine 3

Orthographe

- un music__
- un p__tre
- le m__
- un ind__
- C'est pl__.
- des fr__s
- le gard__
- un ch__
- b__tôt
- e magic__



ien / ein

Grammaire

Surligne les verbes conjugués.

- De nombreux touristes visitent la Tour Eiffel.
- Les Grecs construisaient de nombreux temples.
- Les Chinois bâtissaient des tours pour se protéger.
- Les Egyptiens ont édifié des pyramides.
- Nous aimons voir tous ces beaux monuments

Conjugaison

Conjugué avec « aller » à l'imparfait.

- Tu _____ visiter des châteaux.
- Nous _____ admirer leurs salles.
- Elles _____ être fermées au public parce qu'elles _____ être repeintes.
- Vous _____ revenir plus tard.

Opérations


Complète.

- a) $25 + ___ = 30$
- b) $81 + ___ = 90$
- c) $63 + ___ = 70$
- d) $49 + ___ = 50$
- e) $124 + ___ = 130$
- f) $378 + ___ = 380$
- g) $456 + ___ = 460$
- h) $641 + ___ = 650$


Numération

- $___ + ___ + ___ = 534$
- $861 = ___ + ___ + ___$
- $___ + ___ + ___ = 927$
- $503 = ___ + ___ + ___$
- $___ + ___ + ___ = 780$
- $712 = ___ + ___ + ___$

Angle droit



Indique les angles droits.



Je lis



Le papa de Léo fait la collection des voitures de rallye miniatures ; c'est un ancien coureur automobile.

Il en possède déjà 239.

Son ami lui en a trouvé 7 à un vide-grenier et il vient d'en commander 2 à un artisan. Ceux-là, il les recevra dans trois mois.

Il n'a de place que pour 250 voitures miniatures dans sa vitrine.


1. Combien de voitures a-t-il actuellement dans sa vitrine ?

Le papa de Léo a _____ voitures.

2. Combien de voitures aura-t-il lorsqu'il aura reçu celles qu'il a commandées ?

Il aura _____ voitures.

3. Lui restera-t-il assez de places pour mettre d'autres voitures ? Précise.



Je recherche



Dans ce texte :

1. Relève le verbe de la 2^{ème} phrase : _____
2. Relève un nom féminin et singulier : _____
3. Relève un nom féminin et pluriel : _____

Pourquoi le papa de Léo aime-t-il les rallyes ?

(Réponds en rédigeant une phrase complète.) _____

A quoi correspondent les nombres suivants :

- a) 2 représente le nombre de voitures _____
- b) 239 représente le nombre de voitures _____
- c) 250 représente le nombre de voitures _____

