



Je révise pendant les vacances

Jour 5 semaine 3

Orthographe



Complète par :
ion ou oin

- un l_____
- du f_____
- une p_____te
- un fan_____
- une quest_____
- le s_____
- un cam_____

Opérations

Relie les mêmes

- | | | |
|---------------|---|-------------|
| • $20 + 8 =$ | • | • $10 + 10$ |
| • $5 + 15 =$ | • | • $20 + 20$ |
| • $17 + 13 =$ | • | • $14 + 14$ |
| • $24 + 16 =$ | • | • $12 + 12$ |
| • $16 + 8 =$ | • | • $15 + 15$ |

Grammaire

Relie les mots aux pronoms.

un crabe

des îles

la mer

des rochers

du sable



il

elle

ils

elles


Numération

Trouve les nombres.

- $12 - 14 - ___ - 18 - ___ - 22$
- $20 - 30 - 40 - ___ - 60 - ___$
- $___ - 38 - 37 - ___ - 35 - 34$
- $15 - ___ - 25 - 30 - ___ - 40$


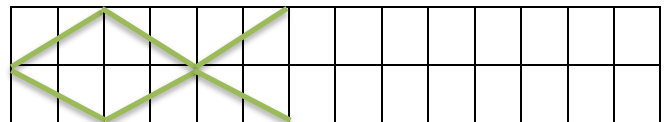
Lecture

Choisis entre trop et peu.

- Il y en avait _____ ; je n'ai plus faim.
- Je ne peux pas faire de tartes ; j'ai trop _____ de fruits. 
- Il pleut _____ ; on peut sortir se promener.
- La branche penche ; il y a _____ de cerises.

Géométrie

Continue les frises.



Je lis



La semaine dernière, Fabrice a acheté des canettes de soda. Il aimait beaucoup boire des sodas et plus particulièrement du coca-cola...

Mais voilà qu'en regardant une émission à la TV, il découvre qu'une **canette de 33 cl de coca-cola contient 7 morceaux de sucre.**

Comme il ne veut pas avaler autant de sucre, il décide de ne boire désormais que de l'eau. Et avec les canettes qu'il a gardées, il fabrique désormais des objets.



Complète à l'aide d'un mot du texte.

- Les flacons pour la boisson en métal sont des _____.
- Il faut recoller les _____ pour reconstituer le vase.
- « C'est pas sorcier » est une _____.
- Il y a du _____ dans les gâteaux et les bonbons.
- Quand on a soif, il faut _____.

Pourquoi Fabrice décide-t-il de ne plus boire de soda ? Il décide de ne plus en boire parce qu'_____

Avec quoi, fabrique-t-il des objets ?

Comme les canettes se vendent souvent dans des packs de 6, Fabrice voudrait savoir combien de morceaux de sucre cela représente.

Alors, il pose toutes ses canettes et met 7 morceaux de sucre dans chacune d'entre elles.

Voici la quantité de morceaux de sucre contenue dans une canette de 33 cl.



Dessine les morceaux de sucre dans les canettes, puis complète.



7



6 canettes = _____ morceaux de sucre.