


Correction des exercices du jeudi 9 avril




La cuisine de Grammaire

PRÉNOM : date :

Cherche les ingrédients de la recette

Les renards dormaient dans le bois.
Nous achèterons nos affaires de classe.

1 Souligne le verbe. (L'action)
2- Surligne le sujet. (Qui fait l'action ?)
3- Entoure le groupe nominal qui n'est pas sujet.



www.pass-education.fr

2

1) Les verbes sont : **dormaient** (on peut mettre « ils » devant) et **achèteront**.

Attention On peut remarquer que dormaient est au passé (Autrefois ils dormaient) et achèteront est au futur (Demain nous achèterons).

2) Les sujets sont « **Les renards** » (qui est-ce qui ? + verbe) et « **nous** ».

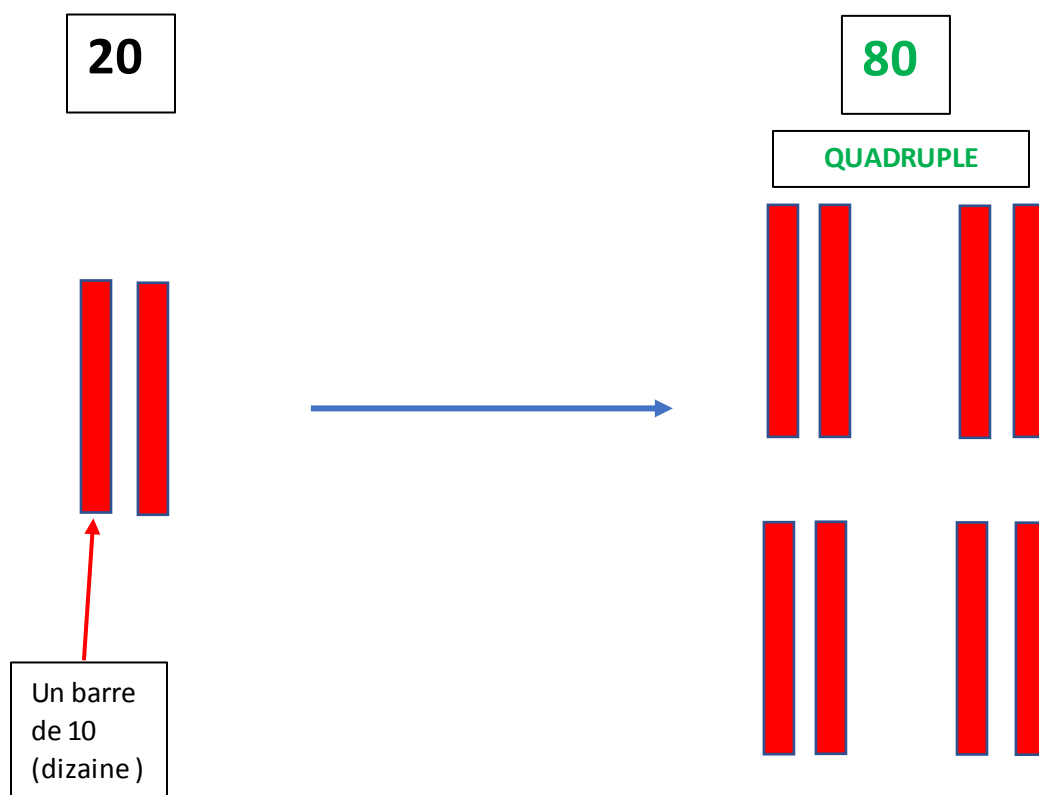
3) Groupe nominal 1 : Le bois (déterminant + nom) / Groupe nominal 2 : nos affaires de classe (dét + nom+ Complément du nom)

Conjugaison : Futur de « pouvoir » et « vouloir »

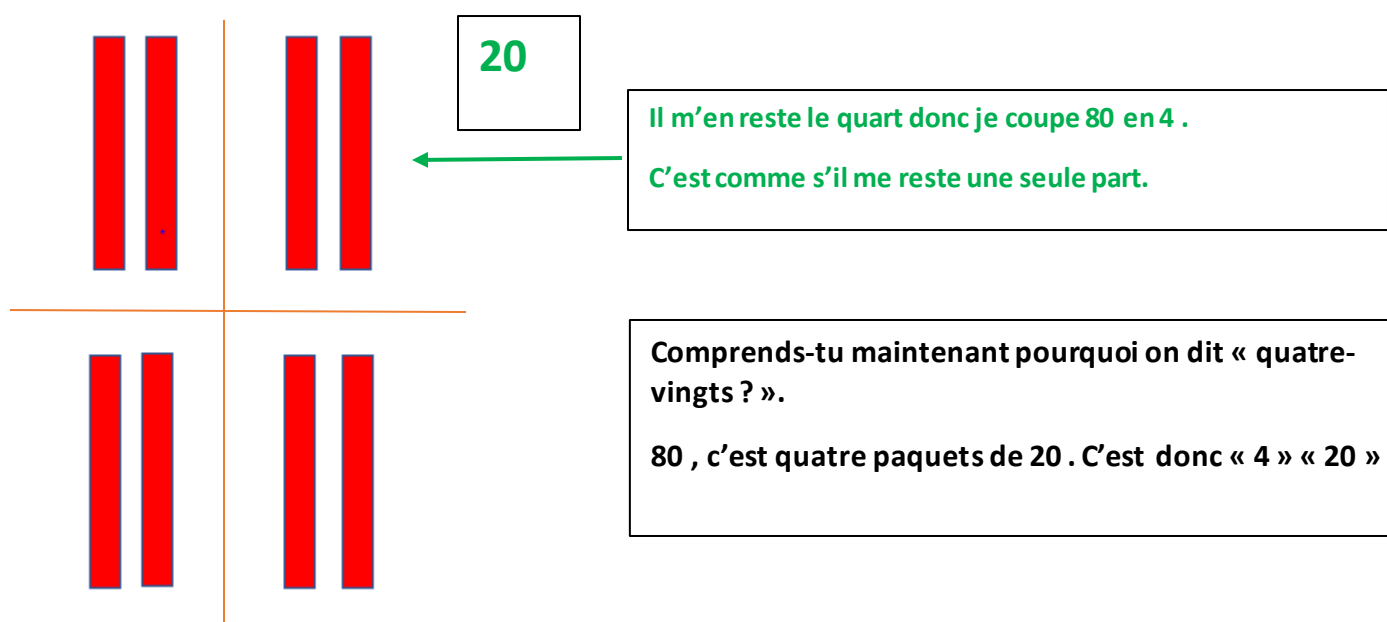
pouvoir	vouloir
je pourrai	je voudrai
tu pourras	tu voudras
il/elle/on pourra	il/elle/on voudra
nous pourrons	nous voudrons
vous pourrez	vous voudrez
ils/elles pourront	ils/elles voudront

Calcul mental : quart / quadruple

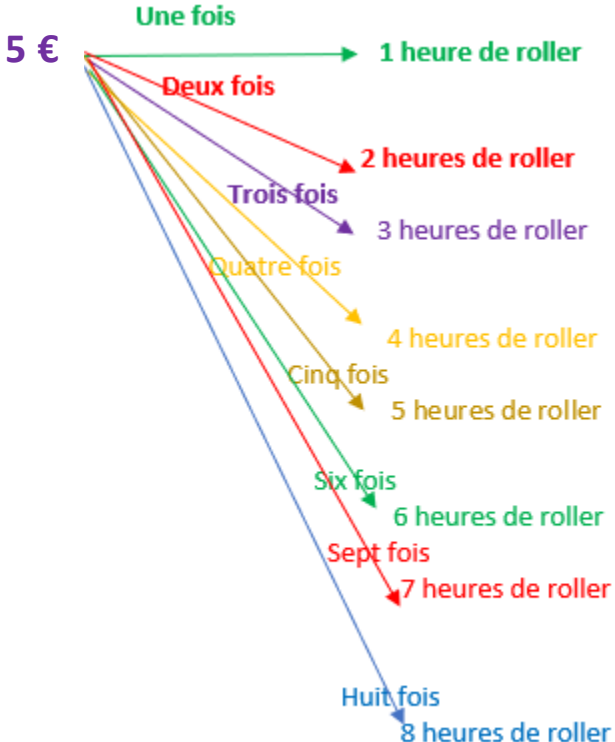
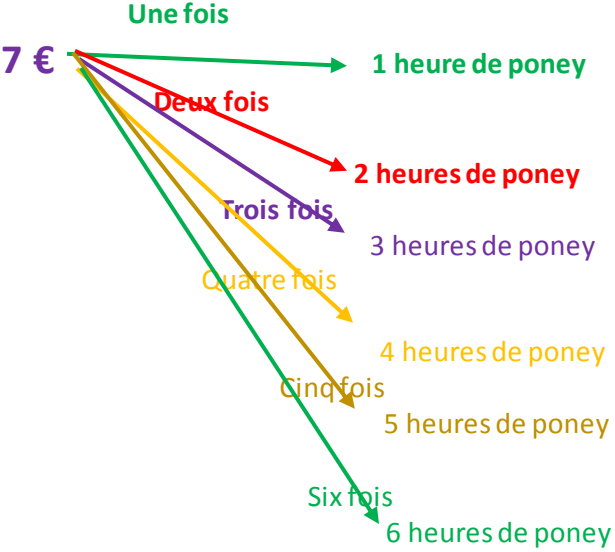
Je joue aux billes. J'ai 20 billes. J'en gagne le quadruple. Combien ai-je de billes ?



Maintenant je rejoue aux billes mais je perds. Il m'en reste le quart. Combien ai-je de billes ?



Maths : Résolution de problème Voici une autre proposition de schéma.

Schéma / dessin / explication	Calcul(s)
 <p>5 €</p> <ul style="list-style-type: none"> Une fois → 1 heure de roller Deux fois → 2 heures de roller Trois fois → 3 heures de roller Quatre fois → 4 heures de roller Cinq fois → 5 heures de roller Six fois → 6 heures de roller Sept fois → 7 heures de roller Huit fois → 8 heures de roller 	<p>Huit fois 5 € : $8 \times 5 = 40$</p>
<p>+</p>  <p>7 €</p> <ul style="list-style-type: none"> Une fois → 1 heure de poney Deux fois → 2 heures de poney Trois fois → 3 heures de poney Quatre fois → 4 heures de poney Cinq fois → 5 heures de poney Six fois → 6 heures de poney 	<p>+</p> <p>Six fois 7 € : $6 \times 7 = 42$</p> <p>$= 40 + 42 = 82$</p>

Phrase réponse : Leila doit payer 82 € en tout.



L'extraterrestre Zlog a 7 doigts sur chacune de ses 4 mains.
Son ami Kryl a 9 doigts sur chacune de ses 3 mains.

Lequel a le plus de doigts ?

a. Calcule le nombre de doigts de Zlog et Kryl.

b. Écris ta phrase réponse.



La question est : « lequel a le plus de doigts » ?

Schéma / dessin / explication	Calcul(s)
<p>Nombre de doigts de Zlog :</p> <p>7 doigts → 1 fois → 1 main → 2 fois → 2 mains → 3 fois → 3 mains → 4 fois → 4 mains</p>	<p>Étape 1 : Je calcule le nombre de doigts de de Zlog</p> <p>$4 \times 7 = 28$</p>
<p>Nombre de doigts de Kryl :</p> <p>9 doigts → 1 fois → 1 main → 2 fois → 2 mains → 3 fois → 3 mains</p>	<p>Étape 2 : Je calcule le nombre de doigts de de Kryl</p> <p>$3 \times 9 = 27$</p> <p>Étape 3 : Je compare 28 et 27. $28 > 27$</p>
<p>Phrase réponse : Zlog a plus de doigts que Kryl.</p>	