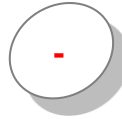


CORRECTION

Je travaille tout seul CE2

! N'écris dans les petites étiquettes que + ou - en fonction de la question. Ne résous pas les opérations.

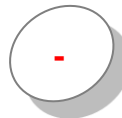
1. Dans un paquet de gâteaux, on compte 36 gâteaux. J'en mange 4. *Combien de gâteaux reste-t-il dans le paquet ?*



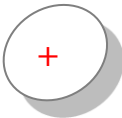
2. Larry utilise 8 perles vertes, 16 perles de couleur crème et 24 perles couleur azur. *Combien de perles utilise-t-il ?*



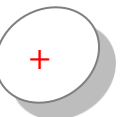
3. Dans un paquet de gâteaux, il y a 4 rangées de 6 gâteaux. J'en mange 1 rangée. *Combien de gâteaux reste-t-il dans le paquet ?*



4. Pour refaire la peinture du sous-sol de la maison, Max se sert d'un pot de 5 litres de peinture beige et d'un pot de 5 litres de peinture saumon. *Combien de litres de peinture a-t-il achetés ?*



5. Maman a dépensé 89 € dans un supermarché, puis, elle a acheté 2 baguettes coûtant chacune 1 €. *Combien a-t-elle dépensé ?*



Calcul rapide appliqué

! N'écris que le calcul dans les petites étiquettes. Ne résous pas les opérations.

1. Céline lit un livre ayant 359 pages. Elle en est à la 146ème page. *Combien de pages lui reste-t-il ?*

$$359 - 146$$

2. Un commerçant a reçu 250 boîtes de biscuits. Il en a déjà vendu 198. *Combien de boîtes reste-t-il ?*

$$250 - 198$$

3. En jouant aux fléchettes, Pauline a placé une flèche dans le 20, une flèche dans le 18 et une flèche dans le 16. *Combien de points a-t-elle ?*

$$20 + 18 + 16$$

4. Sybille en est à la 34ème page de son livre qui en compte 312. *Combien de pages lui reste-t-il ?*

$$312 - 34$$

5. Laurette répartit ses 24 branches de lilas dans 3 vases. *Combien de branches de lilas y aura-t-il dans chaque vase ?*

$$3 \times _ = 24 \text{ ou } 24 : 3$$