

## MATHEMATIQUES SEMAINE 2

### • JOUR 1

#### Activité 1

Matériel : graines ou allumettes

☞ Prendre 25 graines. Faire des paquets de 10.

Puis complète : 2 paquets de 10 et 5 graines

Je peux écrire aussi : 2 dizaines et 5 unités

Il y a 25 graines.

#### Activité 2

Matériel : graines ou allumettes

☞ Prendre 36 graines. Faire des paquets de 10.

Puis complète : 3 paquets de 10 et 6 graines

Je peux écrire aussi : 3 dizaines et 6 unités

Il y a 36 graines.


#### Activité 3

Dessine les billes.

d	u
2	8



d	u
1	3







d	u
4	5







## Activité 4

### Exercices

Entoure le bon nombre.

 8 <b>26</b> 62	 <b>28</b> 82 10	 310 <b>13</b> 31	 <b>40</b> 4 04
---	--	---	--


---



 17 70 <b>7</b>	 <b>19</b> 91 10	 3 <b>30</b> 13	 51 6 <b>15</b>
---	--	---	--

## JOUR 2

### Activité 1


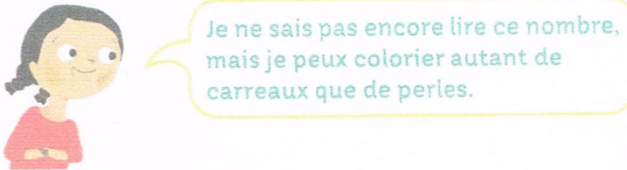
Écris le nombre de perles de Léa dans le tableau et **complète**.



	
dizaine	unité
4	2

$42 = \dots 4 \dots$  dizaines  $\dots 2 \dots$  unités.

Colorie autant de carreaux que de perles.



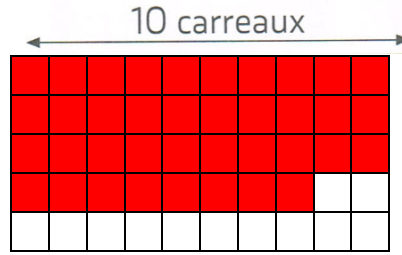
10 carreaux

- Commenter l'illustration en précisant que le nombre de perles de Léa est écrit sur la boîte.
- Compléter le tableau dizaine/unité ainsi que l'égalité  $42 = 4$  dizaines  $2$  unités.
- Colorier autant de carreaux du quadrillage que de perles, en rappelant que chaque ligne du quadrillage contient 10 carreaux et qu'une dizaine correspond à un paquet de dix.
- Dire que Léa a colorié 4 bandes de 10 carreaux et encore 2 carreaux

Matériel : page du cahier / crayons de couleurs

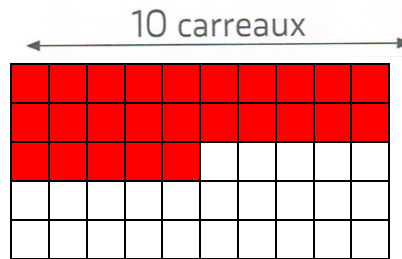
1- Melissa a 38 chouchous. Colorie les carreaux et complète le tableau.

d	u
3	8



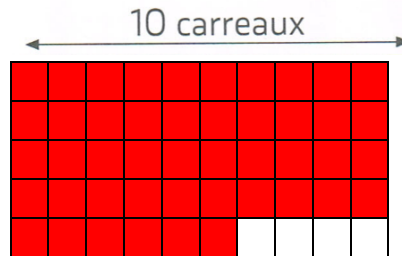
2- Pierre a 25 billes. Colorie les carreaux et complète le tableau.

d	u
2	5



3- Hugo a 46 bonbons. Colorie les carreaux et complète le tableau.

d	u
4	6



## Activité 2

Décomposer un nombre avec des calculs

### Découvrons



Théo a 30 billes. Combien de paquets de 10 billes peut-il faire ?

**Écris** 30 dans le tableau de numération.

**Complète.**  $30 = \dots 3 \text{ dizaines } \dots 0 \text{ unité}$

$$30 = 10 + \dots 10 + \dots 10$$

Théo peut faire  $\dots 3 \dots$  paquets de 10 billes.

 dizaine	 unité
..... 3	..... 0 .....

Quand il n'y a pas d'unité isolée, écris un zéro dans la case **unité**.

Matériel : graines ou allumettes

☞ Prendre 40 graines. Faire des paquets de 10.

Il y a 4 paquets de 10 et 0 graines.

Ecris 40 dans le tableau

Complète :  $40 = 4$  dizaines et  $0$  unité

$$40 = 10 + 10 + 10 + 10$$

d	u
4	0

☞ Prendre 38 graines. Faire des paquets de 10.

Il y a 3 paquets de 10 et 8 graines.

Ecris 38 dans le tableau

Complète :  $38 = 3$  dizaines et  $8$  unités

$$38 = 10 + 10 + 10 + 8$$

d	u
3	8

☞ Prendre 25 graines. Faire des paquets de 10.

Il y a 2 paquets de 10 et 5 graines.

Ecris 25 dans le tableau

Complète :  $25 = 2$  dizaines et  $5$  unités

$$25 = 10 + 10 + 5$$

d	u
2	5

JOUR 3 :

Les nombres de 0 à 39

Ecris en chiffres.

vingt-trois : 23

trente-sept: 37

trente-cinq : 35

vingt-neuf : 29

Ecris en lettres.

28 : vingt - huit

32 : trente - deux

26 : vingt - six

31 : trente - et - un

Complète avec < , > ou =

14 < 28      12 < 25      14 = 10 + 4

29 > 23      27 > 21      16 < 10 + 7

25 < 29      22 > 18      24 < 28

Range les nombres du plus petit au plus grand.

32 - 37 - 34 - 31 - 39 : 31 - 32 - 34 - 37 - 39

36 - 33 - 31 - 32 - 35 : 31 - 32 - 33 - 35 - 36

8 - 15 - 36 - 11 - 23 : 8 - 11 - 15 - 23 - 36

37 - 20 - 29 - 15 - 36 : 15 - 20 - 29 - 36 - 37

Complète.

précédent	nombre	suivant
24	25	26
18	19	20
34	35	36
33	34	35
38	39	40

Complète le tableau

35	10+10+10+5	30 + 5
39	10 + 10 + 10 + 9	30 + 9
21	10 + 10 + 1	20 + 1
18	10 + 8	10 + 8
34	10 + 10 + 10 + 4	30 + 4
36	10 + 10 + 10 + 6	30 + 6

Colorie de la même couleur les rectangles représentant le même nombre

18

20 + 3

dix - huit

3d + 9 u

30 + 9

10 + 8

vingt-trois

23

trente - neuf

**JOUR 4 :**

**Les nombres de 0 à 49**

**Ecris en chiffres.**

quarante - six : 46

quarante - neuf : 49

quarante - deux : 42

trente - six : 36

**Ecris en lettres.**

48 : quarante - huit

41 : quarante - et - un

43 : quarante - trois

37 : trente - sept

**Complète avec < , > ou =**

43 > 34      40 > 30      35 < 45

27 < 47      24 < 42      49 > 19

42 > 32      14 < 41      20 < 40

**Range les nombres du plus petit au plus grand.**

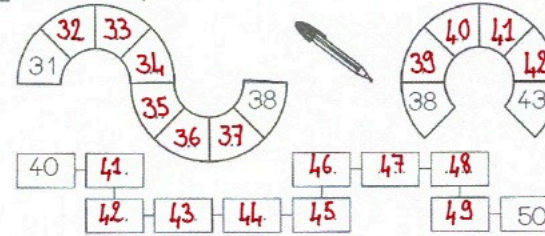
42 - 44 - 47 - 41 - 45 : 41 - 42 - 44 - 45 - 47

49 - 40 - 46 - 43 - 48 : 40 - 43 - 46 - 48 - 49

41 - 34 - 15 - 24 - 7 : 7 - 15 - 24 - 34 - 41

45 - 39 - 41 - 36 - 48 : 36 - 39 - 41 - 45 - 48

Ecris les nombres manquants :



Complète les tableaux:

41	40 + 1	46	40 + 6
49	40 + 9	35	30 + 5
30	30 + 0	27	20 + 7
38	30 + 8	39	30 + 9
42	40 + 2	19	10 + 9

6. Décompose chaque nombre en écriture additive.

41 = 10 + 10 + 10 + 10 + 1

42 = 10 + 10 + 10 + 10 + 4

49 = 10 + 10 + 10 + 10 + 9

35 = 10 + 10 + 10 + 5

47 = 10 + 10 + 10 + 10 + 7

44 = 10 + 10 + 10 + 10 + 4

40 = 10 + 10 + 10 + 10

