
Judi 28 Mai 2020 – Correction

1- Dictée

2- Mots invariables

Consigne : Mets les phrases suivantes au pluriel.

- La sorcière est devant la ville.

Les sorcières sont devant les villes.

.....

.....

- Je suis entre le monstre et la ville.

Nous sommes entre les monstres et les villes.

.....

.....

- Le chat se cache derrière la sorcière.

Les chats se cachent derrière les sorcières.


.....

.....

À retenir :

Les mots invariables trouvés sont : devant – entre – et (déjà vu) – derrière

3- Les fractions



- 1) Qui est arrivé en 1^{er}, 2^e, 3^e ?
- 1^{er} = Aurélia
- 2^e = Justine
- 3^e = Ernesto

- 2) Comment as-tu placé la fraction $\frac{5}{3}$

Il faut décomposer la fraction

On peut faire :

$$\frac{5}{3} = \frac{1}{3} + \frac{1}{3} + \frac{1}{3} + \frac{1}{3} + \frac{1}{3}$$

ou $\frac{5}{3} = \frac{3}{3} + \frac{1}{3} + \frac{1}{3}$

ou $\frac{5}{3} = \frac{3}{3} + \frac{2}{3}$

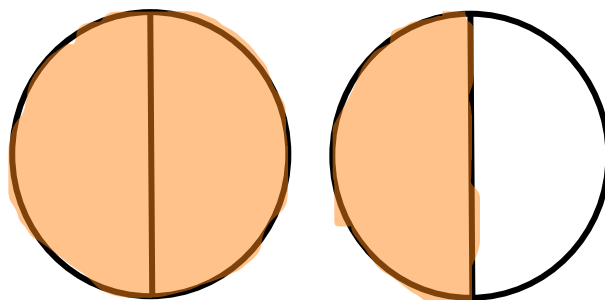
ou $\frac{5}{3} = 1 + \frac{2}{3}$

ou $\frac{5}{3} = 1 + \frac{1}{3} + \frac{1}{3}$

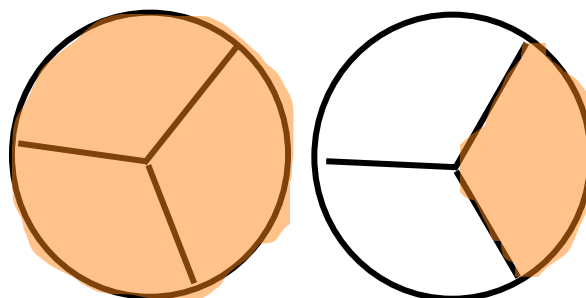
4- Résolution de problème

Comme vu précédemment nous allons décomposer les fractions : trois demi Quatre tiers

$$\frac{3}{2} = \frac{2}{2} + \frac{1}{2} = 1 + \frac{1}{2} \longrightarrow$$



$$\frac{4}{3} = \frac{3}{3} + \frac{1}{3} = 1 + \frac{1}{3} \longrightarrow$$



C'est donc le garçon qui a mangé le plus de pizza.

5- Les grands nombres : Remplie le tableau suivant avec le nombre 124 863 123

Le nombre en chiffres : 124 863 123

Le nombre en lettres : Cent-vingt-quatre - millions - huit - cent - soixante - trois - mille - cent - vingt-trois

Le nombre d'avant : 124 863 122

Le nombre d'après : 124 863 124

Décomposition :

$1 \times 100\,000\,000 + 2 \times 10\,000\,000 + 4 \times 1\,000\,000 + 8 \times 100\,000 + 6 \times 10\,000 + 3 \times 1\,000 + 1 \times 100 + 2 \times 10 + 3$

Tableau de numération :

Classe des millions			Classe des milliers			Classe des unités		
Centaines	Dizaines	Unités	Centaines	Dizaines	Unités	Centaines	Dizaines	Unités
1	2	4	8	6	3	1	2	3

6- Histoire : Louis XIV et la cour

Document 1 :

- **Noblesse** : catégorie sociale de personnes qui ont des privilèges dès la naissance ou par décision d'un souverain.
- **Rébellion** : le fait de refuser de se soumettre, c'est se révolter.
- **La cour** : c'est l'ensemble de personnes qui constitue l'entourage d'un souverain.
- **Courtisans** : les personnes qui flattent un souverain par intérêt.
- Pourquoi Louis XIV installe la noblesse au château de Versailles ? **Pour limiter les risques de rébellion.**

Document 2 :

- Selon ce document qu'est-ce qui est le plus important pour les courtisans ? **Le plus important c'est de plaire au roi.**

Document 3 :

- Où se situe la chambre du roi ? **Au milieu.**
- Qu'est-ce que cela montre ? **Qu'il est au centre de l'attention de tous.**

Document 4 :

- À ton avis, en quoi un emploi du temps si précis permet à Louis XIV de contrôler la noblesse ? **Car chaque moment de la vie de la cour est contrôlé. Ils doivent tous être au même endroit au même moment.**

Document 5 :

- Compare l'attitude du roi et celle des courtisans. Que peux-tu en déduire ?
Il regarde presque tous dans la même direction que le roi. Ils font tous comme le roi. C'est le roi qui dirige les faits et gestes de chacun.