

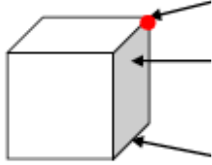


## Journée du Lundi 25 mai 2020

<b>Dictée</b>	<p><u>Mots invariables ( à savoir écrire pour la dictée bilan de vendredi)</u></p> <p><b>peu – mieux – enfin – loin – soudain</b></p>
<b>Lecture</b>	<p><u>Recopie tous les mots ou expressions qui désignent "la marmotte"</u></p> <p>La marmotte est un mammifère. Tout l'été, cette peluche vivante, que l'on peut admirer en altitude, profite de la saison chaude. Elle s'amuse, batifole dans les pâturages, se repose au soleil sur les rochers et fait la belle pour les randonneurs. Toutefois, la petite prévoyante prépare l'hiver en se gavant d'herbes et de baies, si bien que notre chère amie se transforme en petite boule. Dès novembre, le petit animal hiberne dans des terriers souterrains. Son corps vit au ralenti, passant d'une température de 36° à 5°. Au printemps les premiers signes de réveil apparaissent et le petit quadrupède reprend une vie normale.</p>
<b>Grammaire</b>	<p><u>Les adjectifs</u></p> <p>Voici une nouvelle leçon de grammaire. Regarde la vidéo suivante et essaie de comprendre le rôle des adjectifs.</p> <div style="border: 1px solid black; padding: 5px; margin: 10px 0;"><p><a href="https://lesfondamentaux.reseau-canope.fr/discipline/langue-francaise/grammaire/les-adjectifs-qualificatifs/le-role-des-adjectifs-qualificatifs.html">https://lesfondamentaux.reseau-canope.fr/discipline/langue-francaise/grammaire/les-adjectifs-qualificatifs/le-role-des-adjectifs-qualificatifs.html</a></p></div> <p>☆ <u>Je te donne rendez-vous demain, mardi 26 mai à 14h pour une classe virtuelle ! Je t'attends!</u></p>
<b>Problèmes</b>	<div style="border: 1px dashed black; padding: 10px; border-radius: 15px;"><p style="text-align: center;">?</p><p>Lors d'une tombola, on a vendu 69 carnets de 12 tickets. Combien de tickets ont été vendus ?</p></div>
<b>Géométrie</b>	<p><u>Les solides : le cube</u></p> <p>1) <b>Voici une nouvelle leçon de géométrie sur les solides et particulièrement, le cube.</b> Regarde la vidéo suivante.</p> <div style="border: 1px solid black; padding: 5px; margin: 10px 0;"><p><a href="https://www.lumni.fr/video/reconnaitre-et-decrire-le-cube-les-fondamentaux">https://www.lumni.fr/video/reconnaitre-et-decrire-le-cube-les-fondamentaux</a></p></div> <p>2) <u>D'après ce que tu as entendu dans la vidéo, essaie de compléter la leçon.</u></p> <ul style="list-style-type: none"><li>• <b>Un solide est une forme géométrique qui a un volume.</b></li></ul> <p>Une figure plane:  un solide : </p> <ul style="list-style-type: none"><li>• <b>Je sais reconnaître :</b></li></ul> <div style="display: flex; align-items: center;"><div style="text-align: center;"><p>.....</p><p>.....</p><p>.....</p></div><div style="margin-left: 20px;"><p>.....</p><p>.....</p><p>.....</p></div></div> <div style="border: 1px solid black; padding: 10px; margin-top: 10px;"><p>Un cube à des faces carrées. Il possède :</p><p>..... faces</p><p>..... arêtes</p></div>
<b>EPS</b>	<p><u>Faire du sport avec les objets de la maison</u></p> <p>Regarde cette vidéo et, toi aussi, travaille tes muscles abdominaux !</p> <div style="border: 1px solid black; padding: 5px; margin: 10px 0;"><p><a href="https://www.lumni.fr/video/faire-de-lexercice-physique-avec-les-objets-de-la-maison-27-avril">https://www.lumni.fr/video/faire-de-lexercice-physique-avec-les-objets-de-la-maison-27-avril</a></p></div>

## Journée du Mardi 26 mai 2020

<b>Dictée</b>	<p><u>Mots invariables ( à savoir écrire pour la dictée bilan de vendredi)</u>  <b>souvent – également – seulement – vraiment - combien</b></p>																
<b>Lecture</b>	<p>► <b>Trouve et écris les mots manquants dans ce texte.</b>  <i>Florine vient de déménager. Elle regrette déjà son ancienne maison...</i></p> <p>Florine se frottait les yeux. Elle avait bien 1 _____ de pleurer. Le brave Pif, son 2 _____ , n'était pas ravi non plus. Il posait ses pattes sur le rebord de la 3 _____ , le museau collé contre la vitre, il 4 _____ le paysage. Il ne voyait que des maisons, rien que des 5 _____ des deux côtés de la 6 _____ pleine de circulation. Ce n'est vraiment pas un 7 _____ qui convient aux chiens. Il jeta un 8 _____ sur Florine. Comment la consoler ? Il tenta un 9 _____ de langue furtif. Là-dessus, Florine le prit dans ses 10 _____ . (</p>																
<b>Grammaire</b>	<p><u>Les adjectifs</u></p> <p>☆ <u>Je te donne rendez-vous aujourd'hui à 14h pour une classe virtuelle ! Je t'attends !</u></p>																
<b>Langage oral</b>	<p>Fais une phrase , la plus longue possible, qui commencerait comme ceci :</p> <p style="text-align: center;"><i>"La voiture tourne ... "</i></p>																
<b>Problèmes</b>	<p>Ⓚ La BCD de l'école comptait 2 359 livres. La directrice en achète 427 nouveaux. Quel est le nouveau nombre de livres dans la BCD ?</p>																
<b>Géométrie</b>	<p><u>Les solides : le cube</u></p> <p>1) Regarde à nouveau la vidéo sur le cube</p> <p style="border: 1px solid black; padding: 2px;"><a href="https://www.lumni.fr/video/reconnaitre-et-decrire-le-cube-les-fondamentaux">https://www.lumni.fr/video/reconnaitre-et-decrire-le-cube-les-fondamentaux</a></p> <p>2) Constituons ensemble un <b>Musée des solides</b> : Récolte dans la maison , avec l'autorisation de tes parents, des objets ( 1 ou 2 ) qui sont des cubes . Pose les dans ta chambre et incris sur une étiquette le mot "<b>Cubes</b>". N'y touche plus ! Nous compléterons ta collection avec d'autres solides dans les jours à venir !</p>																
<b>Calcul mental</b>	<p><b>Calcul rapidement sans poser !</b></p> <table border="1" style="width: 100%; text-align: center;"> <tr> <td>65 + 9 = .....</td> <td>81 - 11 = .....</td> <td>49 - 9 = .....</td> <td>77 - 11 = .....</td> </tr> <tr> <td>38 - 9 = .....</td> <td>20 - 11 = .....</td> <td>94 - 9 = .....</td> <td>18 + 11 = .....</td> </tr> <tr> <td>73 - 9 = .....</td> <td>74 + 11 = .....</td> <td>35 - 11 = .....</td> <td>58 - 11 = .....</td> </tr> <tr> <td>54 + 11 = .....</td> <td>53 - 9 = .....</td> <td>72 + 11 = .....</td> <td>31 - 11 = .....</td> </tr> </table>	65 + 9 = .....	81 - 11 = .....	49 - 9 = .....	77 - 11 = .....	38 - 9 = .....	20 - 11 = .....	94 - 9 = .....	18 + 11 = .....	73 - 9 = .....	74 + 11 = .....	35 - 11 = .....	58 - 11 = .....	54 + 11 = .....	53 - 9 = .....	72 + 11 = .....	31 - 11 = .....
65 + 9 = .....	81 - 11 = .....	49 - 9 = .....	77 - 11 = .....														
38 - 9 = .....	20 - 11 = .....	94 - 9 = .....	18 + 11 = .....														
73 - 9 = .....	74 + 11 = .....	35 - 11 = .....	58 - 11 = .....														
54 + 11 = .....	53 - 9 = .....	72 + 11 = .....	31 - 11 = .....														
<b>Questionner le monde</b>	<p><u>Visite l'Espagne avec Scooby-Doo</u></p> <p>Regarde cette vidéo et essaie de retenir le maximum d'informations. Tu auras un questionnaire à remplir dans les prochains jours.</p> <p style="border: 1px solid black; padding: 2px;"><a href="https://www.lumni.fr/video/espagne-visite-avec-le-scooby-gang">https://www.lumni.fr/video/espagne-visite-avec-le-scooby-gang</a></p>																