

Activités ritualisées

Ecris en chiffres le nombre puis sous forme décomposée.

Exemple : trois cent-cinquante-six = 356 = 300 + 50 + 6

Quatre-cent-soixante-trois = ..... = ..... + .... + .....

Calcul mental

Addition de trois petits nombres :

$$5+6+7 =$$

$$2+8+2 =$$


$$3+6+4 =$$

$$5+5+5 =$$

$$9+6+1 =$$


Résolution de problèmes

Problème n° 17 : si tu as le fichier, utilise-le pour travailler.


	<b>PROBLÈMES CE1 (1)</b>	<b>17</b>
<p>Pour le rallye de mathématiques, les élèves ont répondu à deux exercices. L'exercice 2 a rapporté 10 points. Au total, les élèves ont gagné 18 points.</p> <p><b>Combien de points valait l'exercice 1 ?</b></p>		

Compte les éléments de chaque fiche. Tu peux faire des paquets de 10 et des paquets de 100 (A paquets de 100 = 10 paquets de 10)


Fiche 1




Fiche 3



Fiche 2



Fiche 4



## Géométrie :

Dans ton cahier, trace un segment de 4 cm. Trace un cercle dont ce segment est un rayon.

Trace un autre segment de 6cm, puis un cercle dont ce segment est un rayon.