

---

## Lundi 25 Mai 2020 - Correction

---

1- Dictée

2- Lecture compréhension

Consigne : Lis la bande dessinée « La dent de dragon » et réponds aux questions ci-dessous.

1. Une bande dessinée
2. En Hiver
3. A la rentrée / Après les vacances
4. Il y a 9 personnages (avec les dragons)
5. Pepper, Carrot, la maîtresse, Thym et Cayenne, le dragon de l'air, le dragon de feu, le dragon du marais et le dragon de foudre
6. La maîtresse, on pourrait l'appeler Curry ou Paprika ou Gingembre ou Piment....
7. Il manque un ingrédient pour la préparation de la potion, la dent de dragon.
8. Le dragon de feu, le dragon de l'air, le dragon de marais enfin le dragon de foudre.
11. Exemple : Nous allons faire semblant d'être des dentistes pour dragon. Nous allons arracher gratuitement les dents qui leurs font mal. Ainsi nous les récupérerons.

### 3- Les conjonctions

1) Mets les phrases suivantes au pluriel.

- Je cherche une dent car c'est un ingrédient important.

*Nous cherchons des dents car ce sont des ingrédients importants.*

- Je vois le dragon mais il est rapide.

*Nous voyons les dragons mais ils sont rapides.*

- Tu as cette dent or je cherche une plante.

*Vous avez ces dents or nous cherchons des plantes.*

2) Quels sont les mots qui n'ont pas changé ?

*Mais - or - car*

3) Clique sur lien et regarde la vidéo : <https://www.lumini.fr/video/les-conjonctions-de-coordination-les-fondamentales>

4) Comment s'appellent ces mots ? *Les conjonctions de coordination*

À retenir :

- Les conjonctions de coordination sont : *mais, ou, et, donc, or, ni, car*
- Les conjonctions de coordination servent à *relier des propositions.*

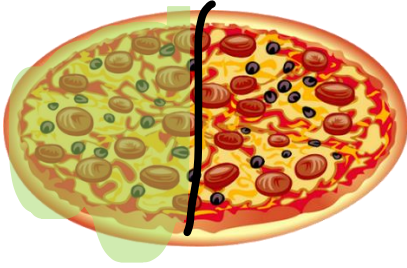
## 4- Les fractions

Guillaume, Pierre et Mathieu reçoivent chacun une pizza identique.


Guillaume mange  $\frac{1}{2}$  de sa pizza. Mathieu mange  $\frac{3}{8}$  de sa pizza. Pierre mange  $\frac{2}{3}$  de sa pizza.

Pour t'aider représente les pizzas :

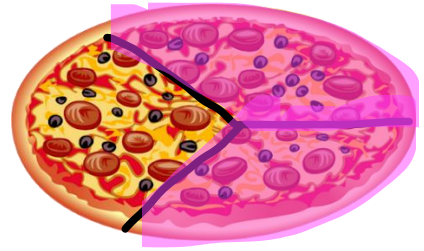
Guillaume



Mathieu



Pierre



1) Faire un classement des quantités mangées

$$\text{Pierre } \left(\frac{2}{3}\right) > \text{Guillaume } \left(\frac{1}{2}\right) > \text{Mathieu } \left(\frac{3}{8}\right)$$

2) Qui a mangé la plus grande quantité de pizza ?

C'est Pierre qui a mangé le plus de pizza.

## 5- Résolution de problème

Problème 1 :

J'ai lu  $\frac{1}{3}$  de mon livre qui fait 1200 pages. Et quelle page en suis-je ?

Si je partage 1200 en 3  
j'obtiens  $400 + 400 + 400$   
Je suis à la 400<sup>e</sup> page.

6- Les grands nombres : Remplie le tableau suivant avec le nombre : 4 456 987

Le nombre en chiffres : 4 456 987

Le nombre en lettres : Quatre million- quatre-cent-cinquante-six-mille-neuf-cent-quatre-vingt-sept

Le nombre d'avant : 4 456 986

Le nombre d'après : 4 456 988

Décomposition :

$$4 \times 1\,000\,000 + 4 \times 100\,000 + 5 \times 10\,000 + 6 \times 1\,000 + 9 \times 100 + 8 \times 10 + 7$$

Tableau de numération :

Classe des millions			Classe des milliers			Classe des unités		
Centaines	Dizaines	Unités	Centaines	Dizaines	Unités	Centaines	Dizaines	Unités
		4	4	5	6	9	8	7

## 7- Histoire : La division des religions en Europe à la fin du Moyen-Âge

### Question (doc 1) :

À la fin du moyen âge pourquoi les chrétiens perdent confiance en l'Église ?

Parce qu'il y a des famines, des épidémies, des guerres, ils pensent que les malheurs sont des punitions de Dieu. Ils reprochent aux prêtres d'être ignorants et de ne pas respecter les principes religieux.

Question (doc 2) : Sur le parchemin tenu par le pape est écrit : « *Pitôt que le sou résonne, l'âme va au ciel.* »

. D'après toi que veut dire ce qui est écrit sur le parchemin tenu par le pape ?

*Il suffit de donner de l'argent, des richesses à l'église pour être « pardonner de ses péchés ».*

. À ton avis que cherche à montrer l'auteur de cette gravure ?

*À l'époque l'église pensait surtout à s'enrichir*

### Question (doc 3 et 4) :

- Que font ceux qui ne veulent pas céder aux privilèges de l'Église ?

*Ils contestent l'autorité du pape et adhèrent au protestantisme.*

- Dans quels pays les protestants sont-ils nombreux ?

*Angleterre - Écosse - Pays-Bas - Danemark - Norvège - Suède*