

Geométrie

CM2

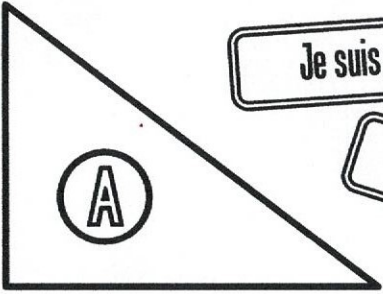


PRÉNOM :



① Jouons aux devinettes !

Gare aux intrus !




Je suis un triangle.

J'ai 3 diagonales.

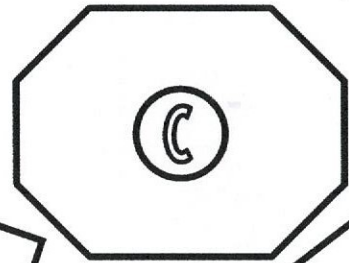
Je suis un quadrilatère.

J'ai 8 côtés.



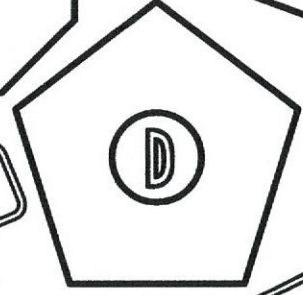
J'ai 6 sommets.

J'ai 10 côtés.



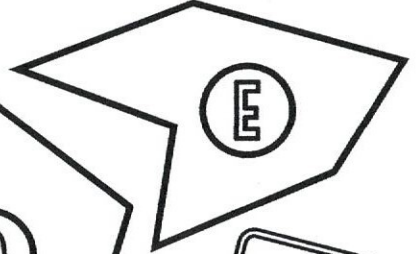
Je n'ai pas de diagonale !

Je suis un octogone.




Je suis un hexagone.

Je suis un pentagone.



② Colorie seulement les polygones.



③ Dans ton cahier, trace un quadrilatère avec exactement deux angles droits.