

CORRIGÉS DES EXERCICES

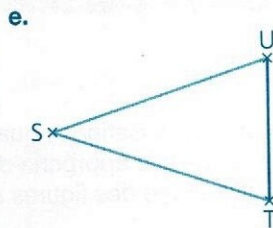
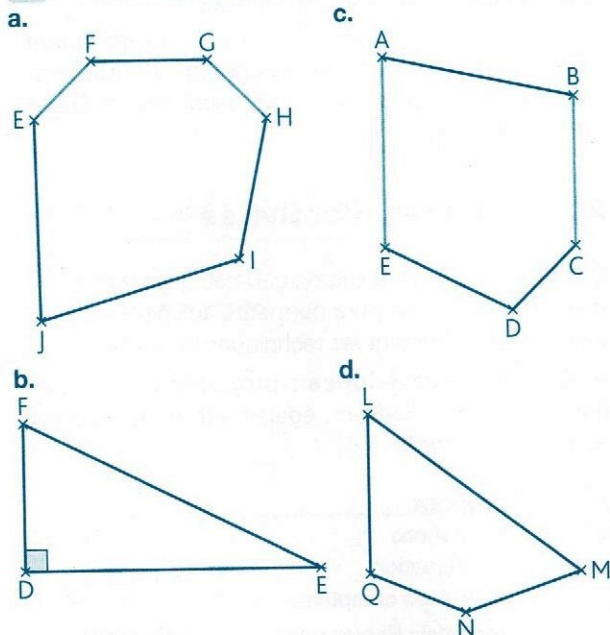
- 1 * A est un **pentagone**. E est un **hexagone**.
 B est un **carré**. F est un **triangle**.
 C est un **hexagone**. G est un **octogone**.
 D est un **hexagone**. H est un **quadrilatère**.

- 2 *
 a. Vrai. b. Vrai. c. Vrai. d. Faux. e. Vrai. f. Faux.

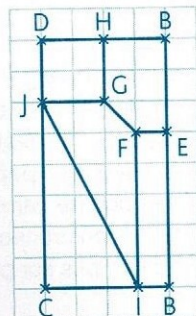
3 * Exercice du manuel à imprimer

Figure	A	B	C	D	E
Nombre de côtés	4	6	3	5	4
Nombre de sommets	4	6	3	5	4
Nombre de diagonales	2	9	0	5	2
Côtés opposés égaux	Oui	oui	non	non	non
Côtés parallèles entre eux	Oui	oui	non	non	oui
Nom du polygone	quadrilatère	hexagone	triangle	pentagone	quadrilatère

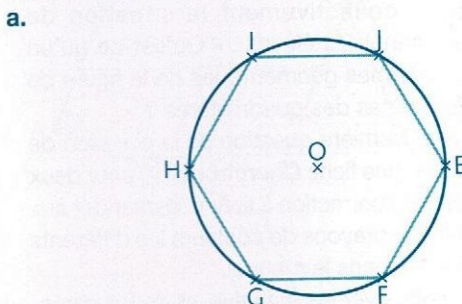
4 * Représenter les polygones comme indiqué.



5 * *



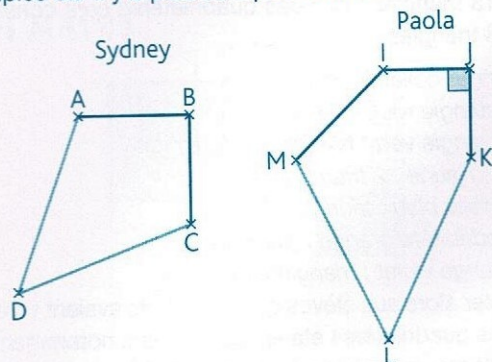
6 * * PROBLÈME



- b. On obtient un hexagone.
 c. Le côté mesure 3 cm.

7 * * PROBLÈME

Exemples car il y a plusieurs possibilités.



DÉFI MATHS

Do- dé- K- gone (dodécagone - 12 côtés).