



Addition de 2 nombres à 2 chiffres (2)



1. Calcule en dessinant les mallettes comme Disco.

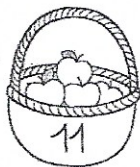
$$26 + 23$$

$$45 + 12$$

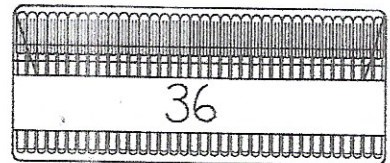
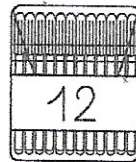
$$26 + 23 = \dots$$

$$45 + 12 = \dots$$

2. Calcule le nombre total de pommes (pense aux malettes de Disco).



3. Calcule le nombre total de feutres (pense aux malettes de Disco).



• En tout il y a ... pommes.

• En tout il y a ... feutres.

4. Trace sur la ligne en pointillés un trait plus long que le trait noir et plus court que le trait gris.

