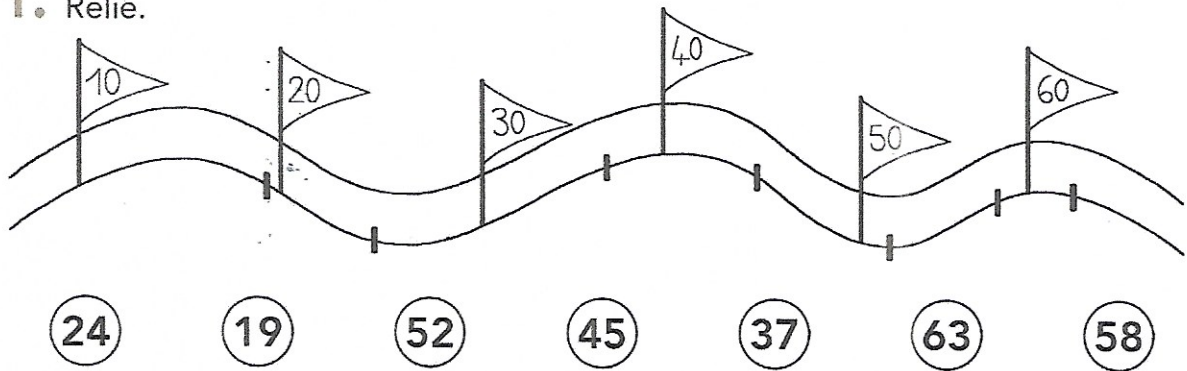


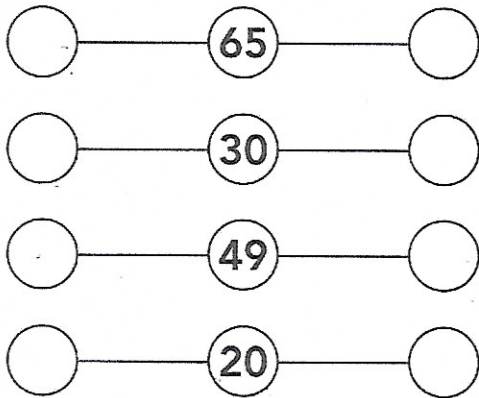


Comparer, ordonner
les nombres jusqu'à 69

1. Relie.



2. Écris les nombres qui viennent avant et après.



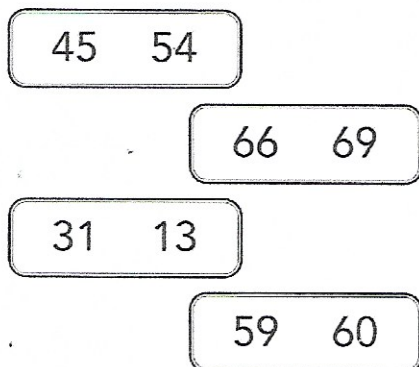
3. Écris les nombres du plus petit au plus grand.



• Écris les nombres du plus grand au plus petit.



4. Entoure le plus grand nombre de chaque étiquette.



5. Calcule (imagine les mallettes de Disco).

$19 + 1 = \dots$ $60 - 1 = \dots$

$49 + 1 = \dots$ $30 - 1 = \dots$

$39 + 1 = \dots$ $20 - 1 = \dots$

$29 + 1 = \dots$ $50 - 1 = \dots$