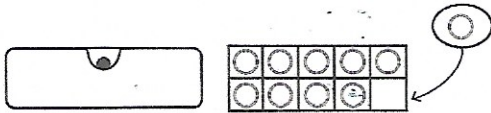




Passage à la dizaine supérieure ou inférieure (ajouter 1 / retrancher 1)

1. Observe et complète.
Disco calcule $19 + 1 = \dots$

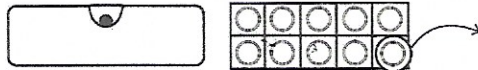


Dessine les mallettes et calcule comme Disco.

$29 + 1 = \dots$



2. Observe et complète.
Disco calcule $20 - 1 = \dots$



Dessine les mallettes et calcule comme Disco.

$40 - 1 = \dots$

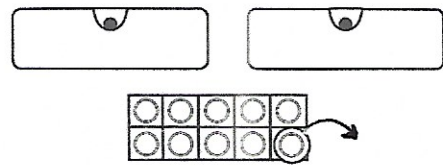
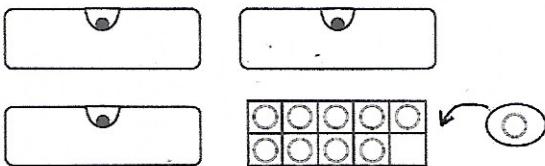


3. Imagine les mallettes et calcule.

$39 + 1 = \dots$ $59 + 1 = \dots$ $19 + 1 = \dots$ $49 + 1 = \dots$

$60 - 1 = \dots$ $30 - 1 = \dots$ $40 - 1 = \dots$ $50 - 1 = \dots$

4. Complète les égalités.



$\dots + \dots = \dots$

$\dots - \dots = \dots$

5. Écris les nombres dans les ronds.

