

# CORRIGÉS DES EXERCICES

1 \* a. E est un **point** du cercle.

b. Le segment [AB] est un **rayon** du cercle.

c. A est le **centre** du cercle et le **milieu** du segment [CD].

d. Le segment [CD] est un **diamètre** du cercle.

e. [AE] est un **rayon** du cercle.

f. La **longueur** du segment [AB] est la moitié de celle du segment [CD].

2 \*

a. Faux.

c. Faux.

e. Faux.

g. Vrai.

b. Faux.


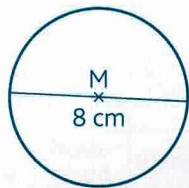
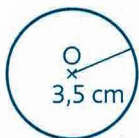
d. Vrai.

f. Vrai.

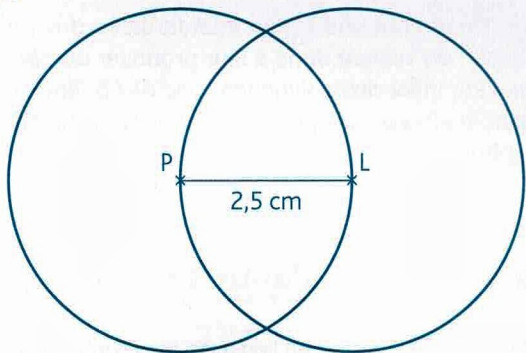
3 \* **PROBLÈME**

Nassim → figure B ; Yann → figure A ; Maria → figure C.

4 \*

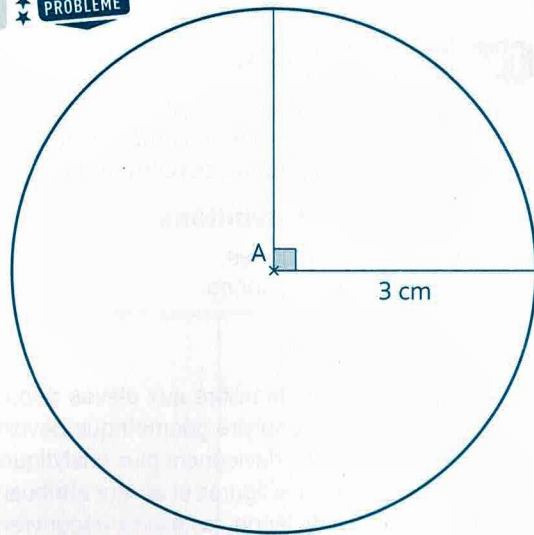


5 \*

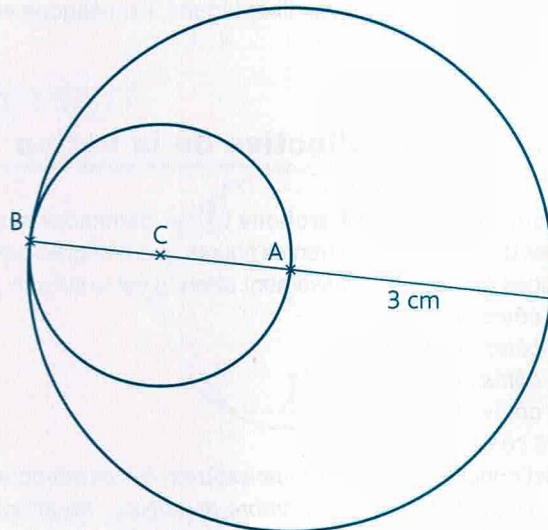


6 \* **PROBLÈME**

A



B



7 \* et 8 \* Sans corrigés.

9 \*

