





## LA MÉTÉO SUR UNE ANNÉE

- 1) Quel mois a été le plus ensoleillé ? .....
  - 2) Quels sont les mois pendant lesquels il n'a pas neigé ? .....
  - .....
  - 3) Combien de jours de pluie y a-t-il eu en avril ? .....
  - 4) Complète les informations du mois de décembre :
-  .....jours

 .....jours

 .....jours

 ..... jours
- 5) Combien de journées nuageuses voit-on en février ? .....
  - 6) Quelle ligne est la plus développée ? .....
  - 7) Calcule le total des jours où il a neigé pendant l'année : .....
  - 8) Quel est le mois le moins pluvieux ? .....
  - 9) Quel est le mois le plus équilibré ? .....
  - 10) A quoi correspond le nombre 14 au mois de juin ? .....

