














Jeudi 30 avril 2020



Géométrie : Se repérer sur un quadrillage


Donne le code des cases où se trouvent ces objets :


6								
5								
4								
3								
2								
1								
	A	B	C	D	E	F	G	H


 est en **B5**  est en

 est en  est en

 est en  est en

 est en

 est en

 est en

Calcul mental

Pense à réviser tes tables régulièrement.

$2 \times 8 = \dots\dots\dots$	$1 \times 9 = \dots\dots\dots$	$2 \times 6 = \dots\dots\dots$	$5 \times 6 = \dots\dots\dots$	$2 \times 7 = \dots\dots\dots$
$5 \times 4 = \dots\dots\dots$	$3 \times 10 = \dots\dots\dots$	$3 \times 9 = \dots\dots\dots$	$2 \times 10 = \dots\dots\dots$	$4 \times 9 = \dots\dots\dots$
$3 \times 6 = \dots\dots\dots$	$4 \times 8 = \dots\dots\dots$	$5 \times 9 = \dots\dots\dots$	$4 \times 7 = \dots\dots\dots$	$3 \times 4 = \dots\dots\dots$

Questionner le monde

Découvre la Pologne avec Scooby-Doo :

<https://www.lumni.fr/video/pologne-visite-avec-scooby-doo#containerType=program&containerSlug=scooby-doo-en-europe-a-la-decouverte-des-pays-de-l-union-europeenne>










Lecture










Lis ce petit documentaire.

https://www.iletaitunehistoire.com/genres/documentaires/lire/bibliidoc_004#histoire

Géométrie : Se repérer sur un quadrillage

Donne le code des cases où se trouvent ces objets :

6								
5								
4								
3								
2								
1								
	A	B	C	D	E	F	G	H

- | | | |
|--|--|--|
|  est en B5 |  est en E6 |  est en G4 |
|  est en D3 |  est en F2 |  est en H1 |
|  est en C2 |  est en A3 |  est en B1 |

Calcul mental

Pense à réviser tes tables régulièrement.

$2 \times 8 = \dots\dots\dots$ 16	$1 \times 9 = \dots\dots\dots$ 9	$2 \times 6 = \dots\dots\dots$ 12	$5 \times 6 = \dots\dots\dots$ 30	$2 \times 7 = \dots\dots\dots$ 14
$5 \times 4 = \dots\dots\dots$ 20	$3 \times 10 = \dots\dots\dots$ 30	$3 \times 9 = \dots\dots\dots$ 27	$2 \times 10 = \dots\dots\dots$ 20	$4 \times 9 = \dots\dots\dots$ 36
$3 \times 6 = \dots\dots\dots$ 18	$4 \times 8 = \dots\dots\dots$ 32	$5 \times 9 = \dots\dots\dots$ 45	$4 \times 7 = \dots\dots\dots$ 28	$3 \times 4 = \dots\dots\dots$ 12