

Dictée bilan (à me transmettre) : demande à quelqu'un de te dicter le petit texte ou recopie-le sans faire d'erreurs.

Semaine 4 énigme 4 :

3.10 Qui sont-ils ?



Peux-tu trouver le nom de chacun d'eux en sachant que:

1. La sœur de Victor n'aime pas la lecture.
 2. Marcel et Hubert redoutent les jeux violents.
 3. Pierrette est plus grande que son frère.
 4. Raoul est le frère de Jeanne.
 5. Marcel révisé pour ses examens.
 6. Victor et Raoul ne sont pas frères.
- Donne le nom de ces jeunes de gauche à droite.

Orthographe :ces /ses/ c'est Relis la leçon ci-dessous puis fais l'exercice suivant :

Ces→ tu peux remplacer par ce/cet/cette (quelque chose/quelqu'un que tu montres)

Ses→ tu peux remplacer par son/sa (c'est le sien)

C'est→tu peux remplacer par c'était



SES= les siens

CES= ces choses là
ces personnes là

C'EST= c'était



Il met ses pièces dans sa tirelire.



Ces fleurs sont belles.



C'est un bon footballeur.

À toi de jouer!

- 1/ Fred a invitéamis à son anniversaire.
- 2/ aujourd'hui que je passe mon permis de conduire.
- 3/ voitures roulent trop vite.
- 4/ à moi de jouer.
- 5/ Elle adore nouvelles chaussures.
- 6/ Le nouveau maître moi.
- 7/nouveaux bonbons ont un goût abominable.
- 8/ Il n'a pas rangé affaires dans sa case.
- 9/ filles se croient tout permis.
- 10/ promis je ne dirai pas ton secret

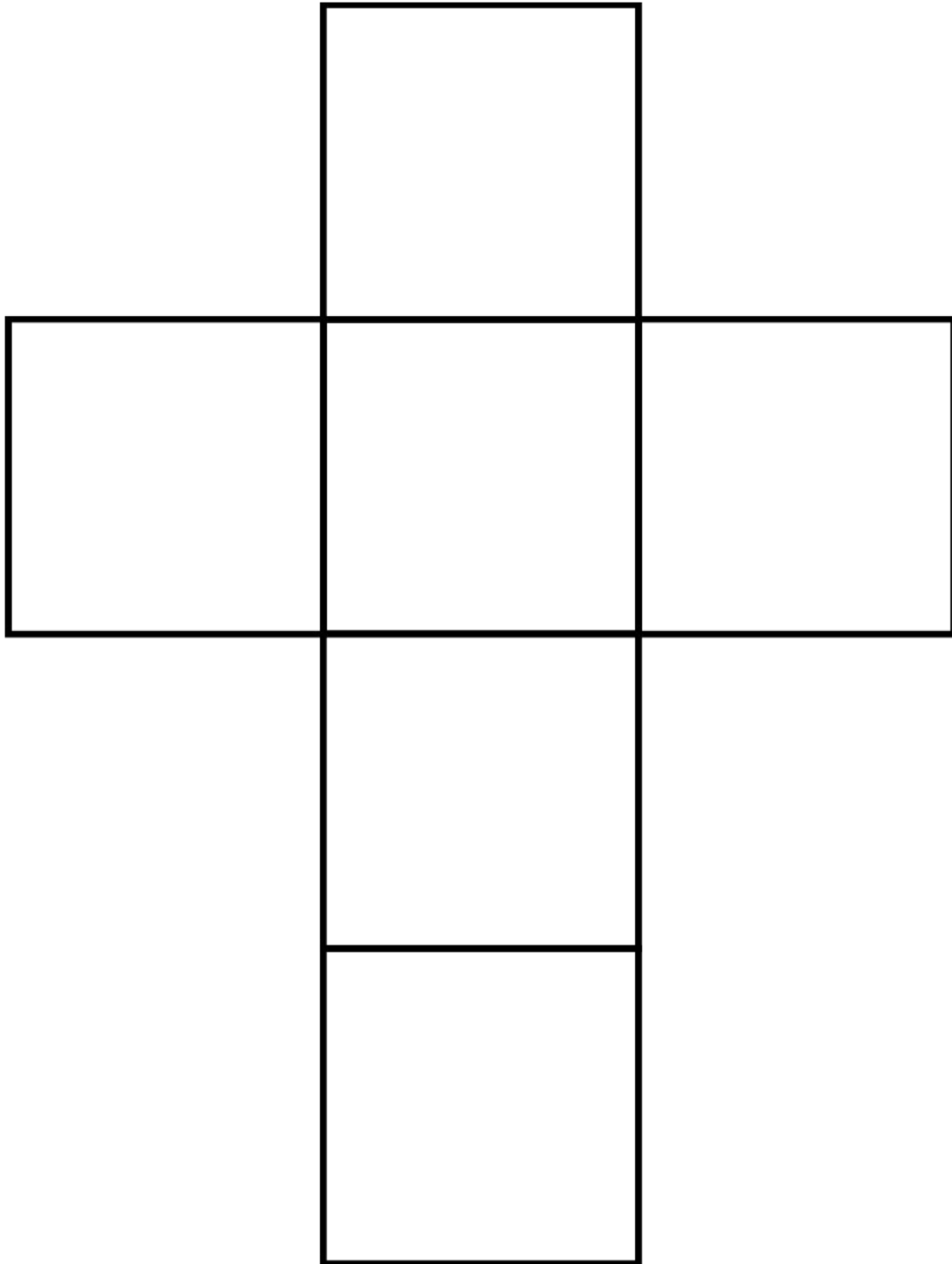
Entraîne-toi sur :

https://www.jeuxpedago.com/jeux-francais-ce1-3eme-homophones-cessesc-est-cese-_pageid238.html


Géométrie :

1) **Découpe et plie cet assemblage de forme pour voir quel solide il va former.**

Cet assemblage s'appelle patron. Quel solide forme-t-on en assemblant ce patron ?



2) Quel solide forme-t-on en assemblant ce patron ?



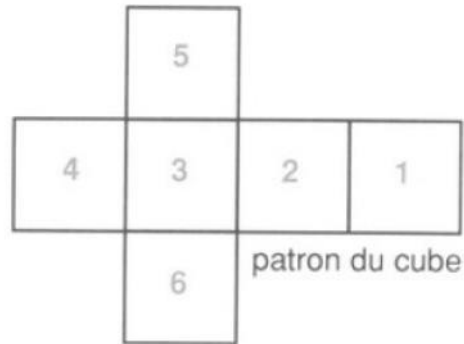
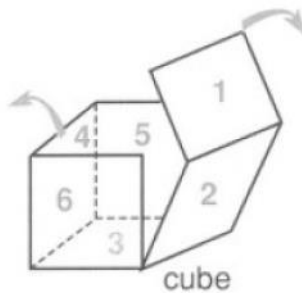
Lis la leçon ci-dessous.

Pour former un solide, on assemble des figures planes, si je déplie cet assemblage, j'obtiens le **patron du solide**.

Voici l'exemple du cube

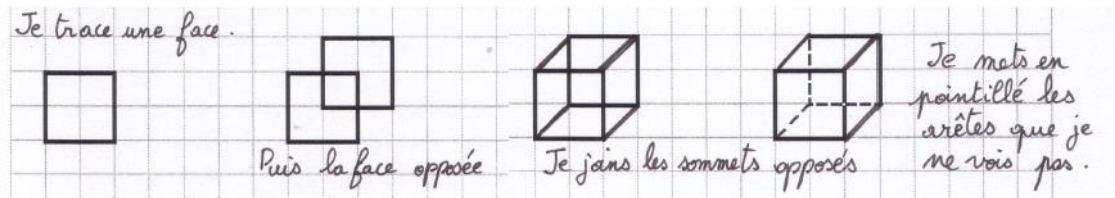
Le cube possède 6 faces carrées identiques.

Donc son patron est formé de 6 carrés identiques.




Je dois savoir dessiner un solide en perspective

Dessiner un solide en perspective, c'est faire apparaître en pointillés les arêtes que l'on ne voit pas.



Il existe 11 patrons du cube. Dessine 2 patrons du cube de ton choix, dessine-les sur la feuille de ton cahier, en t'aidant des carreaux pour faire **des faces carrées**.



A partir de la leçon, entraîne toi à dessiner le cube en perspective sur ton cahier jaune ou une feuille de classeur.

Arts visuels : à la manière de Keith Haring

Lis le document sur Keith Haring. Puis toi aussi dessine ton personnage à la façon de Keith Haring. N'oublie pas de repasser le contour du ou des personnages au feutre noir, de colorier le fond et le personnage avec des couleurs vives.

Si tu le souhaites, envoie-moi tes productions.