

Prénom :

Date :

Les nombres de 1 à 39

1 Écris les nombres dans les cases grises.

| | | | | | | | | | | | | | | | |
|----|--|--|--|--|----|--|--|--|--|----|--|--|--|--|--|
| 19 | | | | | 25 | | | | | 31 | | | | | |
|----|--|--|--|--|----|--|--|--|--|----|--|--|--|--|--|

| | | | | | | | | | | | | | | | |
|----|--|--|--|--|----|--|--|--|--|--|----|--|--|--|--|
| 13 | | | | | 18 | | | | | | 27 | | | | |
|----|--|--|--|--|----|--|--|--|--|--|----|--|--|--|--|

| | | | | | | | | | | | | | | | |
|--|--|----|--|--|--|--|----|--|--|--|--|----|--|--|--|
| | | 26 | | | | | 32 | | | | | 40 | | | |
|--|--|----|--|--|--|--|----|--|--|--|--|----|--|--|--|

<http://fee-des-ecoles.fr>

2 Complète.

| | | | | | | | | | |
|---|---|---|--|--|--|--|--|--|--|
| 2 | 4 | 6 | | | | | | | |
|---|---|---|--|--|--|--|--|--|--|

| | | | | | | | | | |
|----|----|----|--|--|--|--|--|--|--|
| 11 | 13 | 15 | | | | | | | |
|----|----|----|--|--|--|--|--|--|--|

| | | | | | | | | | |
|----|----|----|--|--|--|--|--|--|--|
| 20 | 22 | 24 | | | | | | | |
|----|----|----|--|--|--|--|--|--|--|

3 Colorie les différentes écritures du même nombre de la même couleur.

treize

quatre

4

36

vingt-neuf

21

vingt et un

13

trente-six

29

Prénom :


Date :

Les nombres de 1 à 39


1 Écris les nombres dans les cases grises.

| | | | | | | | | | | | | | |
|----|--|--|--|--|----|--|--|--|--|--|----|--|--|
| 22 | | | | | 27 | | | | | | 34 | | |
|----|--|--|--|--|----|--|--|--|--|--|----|--|--|

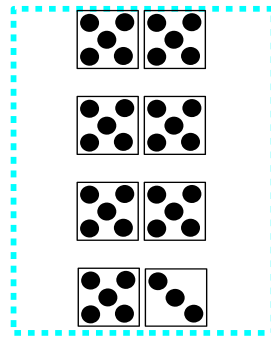
2 Écris le nombre de points.



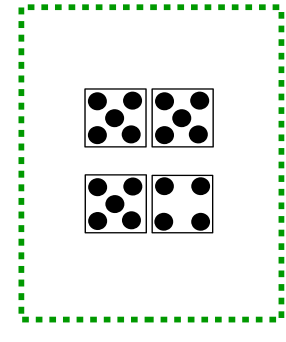
.....



.....



.....



.....

3 Écris les nombres en chiffres.

seize :

vingt et un :

trente-sept :

dix-huit :

trente-deux :

4 Écris les nombres en chiffres.

34 :

5 :

29 :

11 :

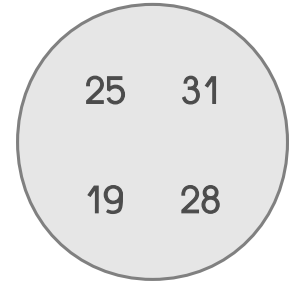
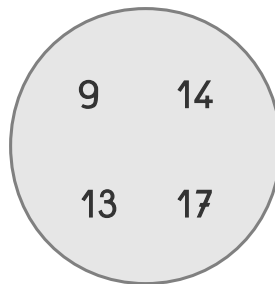
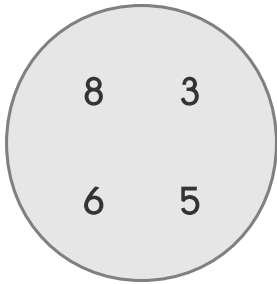
31 :

Prénom :

Date :

Les nombres de 1 à 39

1 Entoure dans chaque rond le nombre le plus grand et fais une croix en dessous du plus petit.



2 Compare les nombres en utilisant < ou >.

9 6

21.....12

14.....17

32 4

25.....30

16.....19

20 29

38.....35

9.....11

3 Range les nombres du plus petit au plus grand.

17

21

37

28

15

34

3 Range les nombres du plus grand au plus petit.

35

9

23

19

32

38
