

Nom : .....

Date : .....

- Résoudre des problèmes impliquant la monnaie.

Exercices

Problèmes sur la monnaie

<http://www.i-profs.fr>

1

Ecris la somme que possède Marc et entoure les jouets qu'il pourra acheter.




.....€



20€



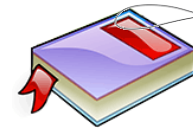
28€



25€



31€



15€

2

Observe et complète.



Julie a ... €

Si elle achète le livre,  
Combien lui restera-t-il ? .....€



Thomas a ... €

S'il achète le livre et le ballon,  
Combien lui restera-t-il ? .....€



3

Entoure les sommes nécessaires pour acheter le train.



4

Ecris la somme que possède chaque enfant.



.....€



.....€

- Résoudre des problèmes impliquant la monnaie.

Nom : .....

Date : .....

Corrigé

Problèmes sur la monnaie

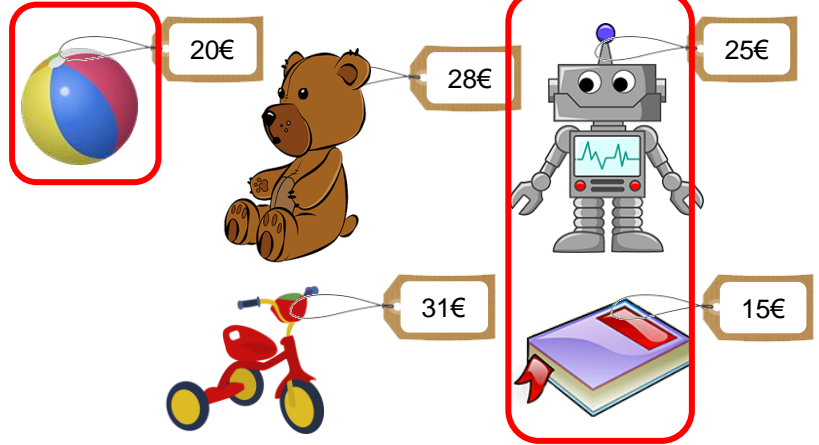
<http://www.i-profs.fr>

1

Ecris la somme que possède Marc et entoure les jouets qu'il pourra acheter.



26 €



2

Observe et complète.



Julie a 23 €

Si elle achète le livre,  
Combien lui restera-t-il ? 8 €





Thomas a 37 €

S'il achète le livre et le ballon,  
Combien lui restera-t-il ? 2 €



3

Entoure les sommes nécessaires pour acheter le train.



4

Ecris la somme que possède chaque enfant.



29 €



39 €

