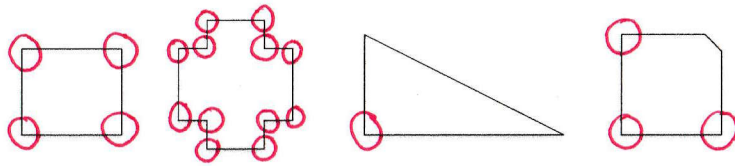




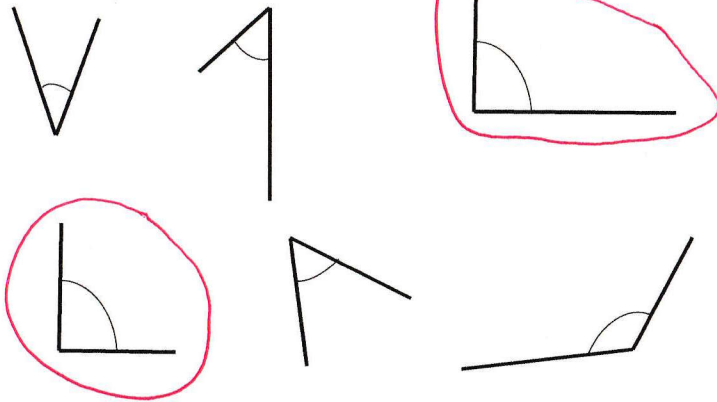
Géométrie

L'angle droit

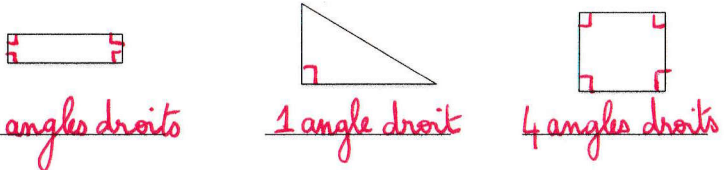
1 Pour chaque forme entoure les angles droits:



2 Entoure seulement les angles droits:



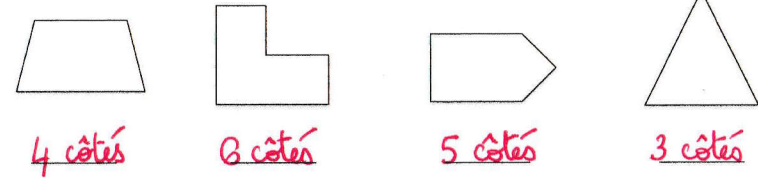
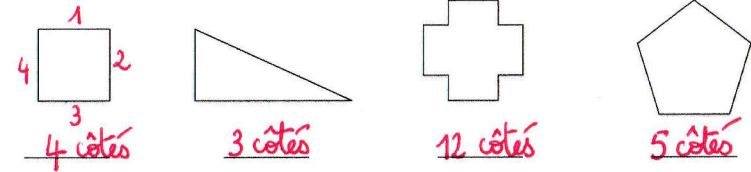
3 Indique combien il y a d'angles droits:




Géométrie


Les côtés

1 Pour chaque forme indique le nombre de côtés.



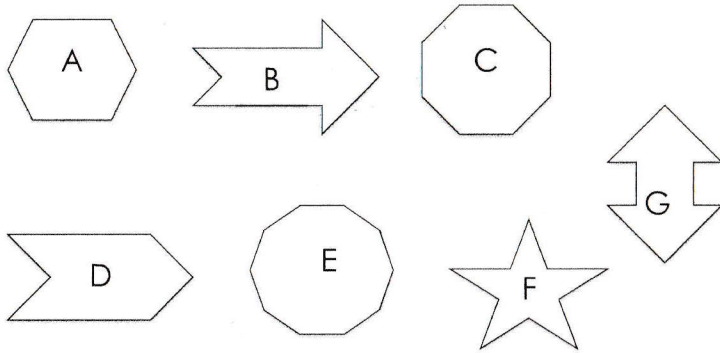
2 Colorie les formes qui ont trois côtés en vert, quatre côtés en rouge et cinq côtés en bleu:






Géométrie

1 Classe les formes dans le tableau :

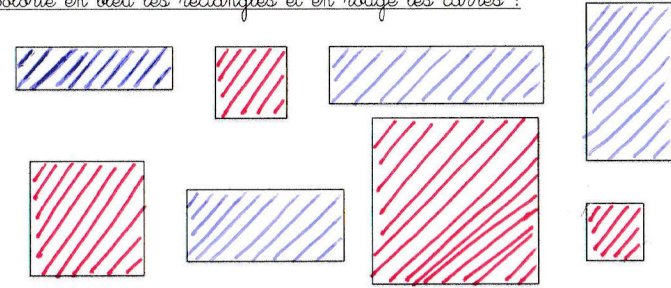


Trois côtés	huit côtés	dix côtés
A - D -	B - C -	E - F - G

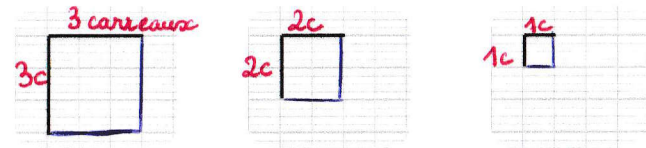


Le carré et le rectangle

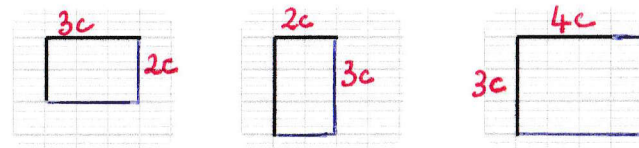
1 Colorie en bleu les rectangles et en rouge les carrés :



2 Complète la forme avec ta règle pour réaliser un carré :



3 Complète la forme avec ta règle pour réaliser un rectangle :



4 Écris s'il s'agit d'un carré ou d'un rectangle :

