

Semaine 5, dictée bilan (à me transmettre par mail/mms)

Réfléchis bien aux accords : dans les groupes nominaux et le verbe avec son sujet

- 1) Ces drapeaux effrayants appartiennent aux pirates perdus sur ces petites îles.
- 2) Ce drapeau effrayant appartient à un pirate perdu sur cette petite île.

.....nombre de mots réussis/15

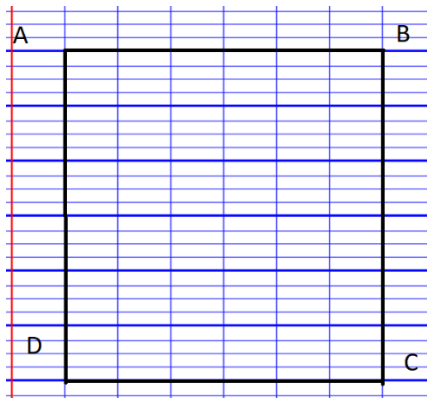
Grammaire correction

- 1) a) de b) à c) de d) en e) sans

2) La voiture de Monsieur Payet - Le fer à lisser - Le livre de cet élève - Les bijoux en argent -
Les sifflements de ce bel oiseau - Le matériel de la classe de CM1 - Le chevalier sans peur

Grandeurs et mesures

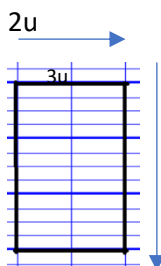
- 1) Pour tracer un carré de 24 u de périmètre. Il faut qu'un côté fasse 6 u
car $24 : 4 = 6$



- 2) Pour tracer un rectangle de 10 u de périmètre. Je regarde toutes les additions qui sont égales à 10. Attention, il faut pouvoir partager les nombres en 2 pour obtenir des unités entières.

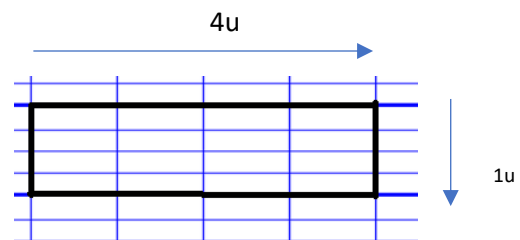
2 possibilités :

Longueur=3u et largeur=2 u



Périmètre : $3 + 2 + 3 + 2$ ou $(3+2) \times 2 = 10$

Longueur=4u et largeur=1u



Périmètre : $4+1+4+1 = (4+1) \times 2 = 10$