

Dictée.

Dictée

- 1/ Lecture de la dictée une première.
- 2/ L'adulte dicte le texte phrase par phrase.

Il s'agit ici de réinvestir les mots (vus le lundi 31/03/2020) et l'imparfait.

Texte :

Le vent soufflait avec violence et soulevait des tourbillons de sable. La poussière collait à la peau des gens. Ils continuaient pourtant à marcher en direction des montagnes dont les cols étaient si hauts que les oiseaux les franchissaient à pied. Ils attendaient le retour du calme. Ils redoutaient la nuit. Soudain, un rayon de soleil traversa les nuages. C'était la fin de la tempête.


Géométrie

60	★ ★ GÉOMÉTRIE ET MESURE	Prénom :
----	-------------------------	----------


■ Le premier carré nécessite 12 allumettes, le deuxième nécessite 24 allumettes.

De combien d'allumettes a-t-on besoin pour faire, de la même façon, un grand carré de 10 allumettes de côté ?

A) 110
B) 100
C) 200
D) 220
E) 120



①

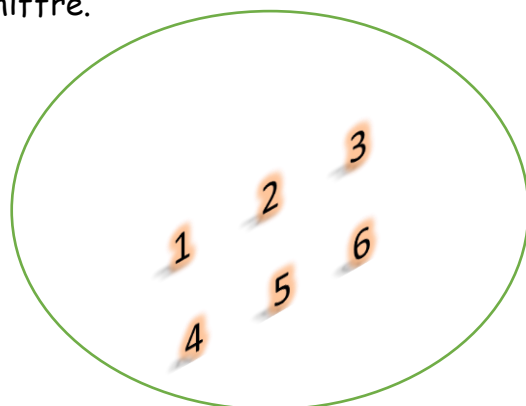
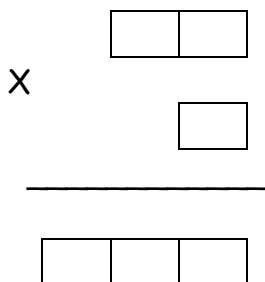


②

Utilise une boîte d'allumettes si tu as la possibilité de le faire

Calcul

Tous les chiffres de la multiplication sont tombés.
Retrouve l'emplacement de chaque chiffre.



Histoire	<p>Napoléon Bonaparte</p> <p>Voici deux liens pour regarder et compléter vos recherches sur Napoléon Bonaparte.</p> <p>https://www.youtube.com/watch?v=RJgDeqlh8Kk https://www.youtube.com/watch?v=wOp4OykAIV8</p>
	<p>Pensez</p> <ul style="list-style-type: none">- à réviser les tables de multiplication- faire des opérations- à lire