









Lire l'heure









1 Quelle heure est-t-il ? Donne l'heure du matin et celle de l'après midi

| | | | |
|---|---|--|---|
|  |  |  |  |
| matin : après-midi : | matin : après-midi : | matin : après-midi : | matin : après-midi : |

2 Place correctement les aiguilles sur chacune des pendules

| | | | |
|---|---|--|---|
|  |  |  |  |
| 17 H 30 | 10 H 00 | 15 H 45 | 8 h 30 |

3 Colorie de la même couleur les pendules et les radios-réveils qui donnent la même heure.

| | | | |
|---|---|--|---|
|  |  |  |  |
|  |  |  |  |