



Vendredi 17 avril 2020



Rituel

- Fiche « rituel »



Lecture

- Son [k]



Écriture

- Exercices



Mathématiques

- Révisions



Poésie

- Les 12 mois de l'année

Défi du jour

Quel temps fait-il ? Quel jour sommes nous ?						
lundi	1	2	3	4	janvier	février
mardi	5	6	7	8 9	mars	avril
mercredi	10	11	12	13	mai	juin
jeudi	14	15	16	17	juillet	août
vendredi	18	19	20	21	septembre	octobre
samedi	22	23	24	25	novembre	
dimanche	26	27	28	29	décembre	
	30	31				



2019
2020
2021
2022
2023
2024

VALI ٢٠٢٥

- **Hier**, nous étions.....
- **Aujourd'hui**, nous sommes.....
- **Demain**, nous serons.....

Écris la date dans ton cahier du jour.

1. Quelles lettres avons-nous vu hier ? Quel bruit font-elles ?

2. Entraîne-toi !

https://www.clicmaclasse.fr/activites/sons/k/son_k_ex01.html

Cliquer sur le lien !

3. Dictée (cahier du jour)

- phrases : « Il y a un crabe sur la plage.

Mon masque bouge sur mon nez. »

Dictée la phrase à votre enfant. Il doit essayer d'écrire les sons sans regarder. Puis corrigez avec lui en lui expliquant ses erreurs

4. Lis les phrases suivantes.

Le koala mange des branches.

Je fais du basket avec ma copine Clara. 

Pour faire du ski, je porte un anorak et un masque.

Dans mon équipe, il y a quatre champions. 

Pour faire du karaté, je porte un kimono blanc.

Il croque une pomme quand il a faim.

La cloche sonne, il faut rentrer en classe.

Le kangourou est un bel animal. 



Regarde bien l'image de ton groupe pour savoir où tu dois t'arrêter !

Écris le titre « écriture » dans ton cahier du jour. Recopie les mots et la phrase ! N'imprime pas la feuille !



Recopie les mots.

kangourou .

coquille .



Recopie la phrase.

Le soldat a mis son képi kaki.



Complète chaque mot avec la bonne syllabe.

que



ko

ka

qua

kan


quin



pho =

= ala

re =



= raté

= tre

= gourou



Prends une photo
de ces exercices
et envoie à la
maitresse !



1. Rituels :

- Récite les nombres jusqu'à 69. Compte à l'envers.
- À l'aide du tableau des nombres, compte de 5 en 5 à partir de **2**. Fais les petits bonds avec ton doigt.

0	1	2	3	4	5	6	7	8	9
10	11	12	13	14	15	16	17	18	19
20	21	22	23	24	25	26	27	28	29
30	31	32	33	34	35	36	37	38	39
40	41	42	43	44	45	46	47	48	49
50	51	52	53	54	55	56	57	58	59
60	61	62	63	64	65	66	67	68	69
70	71	72	73	74	75	76	77	78	79
80	81	82	83	84	85	86	87	88	89
90	91	92	93	94	95	96	97	98	99

Exercice à faire à l'oral !
Ne pas imprimer !

- Écris le titre « maths » dans ton cahier du jour. Demande à tes parents de te dicter des nombres (de 0 à 69) et écris-les en chiffres.
- Tous les jours, choisis un nombre et complète la fiche du nombre comme le modèle. (voir fiche du jeudi 9 avril 2020)



Complète ou dessine:

en lettres.


_____ d et _____ u

+ 1 = _____

- 1 = _____


dessine  

Décomposition de 10

dessine 

0	1	2	3	4	5	6	7	8	9
10	11	12	13	14	15	16	17	18	19
20	21	22	23	24	25	26	27	28	29
30	31	32	33	34	35	36	37	38	39
40	41	42	43	44	45	46	47	48	49
50	51	52	53	54	55	56	57	58	59
60	61	62	63	64	65	66	67	68	69
70	71	72	73	74	75	76	77	78	79
80	81	82	83	84	85	86	87	88	89
90	91	92	93	94	95	96	97	98	99

0 10 20 30 40 50 60 70 80 90 100





Prends une photo
de cet exercice et
envoie à la
maitresse !

3. Comparer les nombres de 0 à 39 : utiliser les signes < et >

correction du jeudi 16/04/2014

Range les nombres du plus petit au plus grand.

31 ~~28~~ 34 38 30
~~28~~ < 30 < 31 < 34 < 38

N'oublies pas tu peux vérifier sur la bande des nombres !

Range les nombres du plus grand au plus petit

19 37 ~~39~~ 32 20
 39 > 37 > 32 > 20 > 19

Écris le nombre qui vient juste avant et le nombre qui vient juste après.

24 25 26
 21 22 23
 35 36 37
 29 30 31
 30 31 32
 37 38 39

Entoure le nombre le plus grand.

56 24 35 47 78 54 85 79
 65 56 70 69 90 70 9 21
 58 38 48 27 35 39 36 63 35

Recopie sur ton cahier et entoure.

Écris le signe < ou >.

3 < 6
 5 > 1
 23 < 25
 78 < 80
 58 < 60
 84 < 48
 90 < 9
 61 < 59
 76 < 80
 62 < 61
 70 < 80
 58 < 48

Recopie sur ton cahier et écris le signe < ou >



Prends une photo de ces exercices et envoie à la maitresse !

4. Problèmes :

correction des problèmes du jeudi 16/04/2020

Mon problème du jour -21-



Zoé a **16 sucettes**.

Arthur en a **3 de plus** que Zoé.

Combien Arthur a-t-il de sucettes ?



Je cherche



Je calcule

$$16 + 3 = 19$$

Je réponds

Arthur a **19** sucettes.



« de plus » = ajouter (+)
« de moins » = enlever (-)

Mon problème du jour -22-



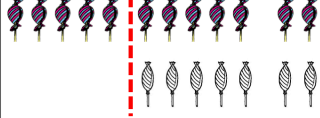
Zoé a **12 sucettes**.

Arthur en a **5 de moins** que Zoé.

Combien Arthur a-t-il de sucettes ?



Je cherche



Je calcule

$$12 - 5 = 7$$

Je réponds

Arthur a **7** sucettes.



Mon problème du jour -23-



Zoé a **26 sucettes**.

Arthur en a **13 de plus** que Zoé.

Combien Arthur a-t-il de sucettes ?



Je cherche

Je calcule

Je réponds

Arthur



Mon problème du jour -24-



Zoé a **32 sucettes**.

Arthur en a **25 de plus** que Zoé.

Combien Arthur a-t-il de sucettes ?



Je cherche

Je calcule

Je réponds

Arthur



Apprends la 2ème partie jusqu'à « Août viens jouer avec nous »

Les 12 mois de l'année



Janvier, c'est le premier mois de l'année.

Février, on va au bal masqué.



Mars, le soleil nous fait des farces.

Avril, les oiseaux sont sur les fils.




Mai, nous offrons du muguet.

Juin, au revoir tous les copains.



Juillet, je retrouve tous mes jouets.

Août, viens jouer avec nous.



Septembre, mon stylo est rempli d'encre.

Octobre, les arbres n'ont plus de robe.



Novembre, il fait froid, je tremble.

Décembre, j'accroche des guirlandes.



Lexique

- farce = blague
- muguet = petite fleur blanche que l'on offre le 1er mai



Défi : Faire un après-midi déguisé !



Prends une photo
et envoie à la
maitresse !