

CORRECTION du travail du JEUDI 09 AVRIL 2020

GRAMMAIRE LE VERBE : Le futur des verbes être et avoir

- Récite tes verbes être et avoir au présent (tu dois déjà les connaître normalement).


ETRE	AVOIR
Je suis	J'ai
Tu es	Tu as
Il / elle / on est	Il/ elle/ on a
Nous sommes	Nous avons
Vous êtes	Vous avez
Ils / elles sont	Ils/ elles ont

- Apprends par cœur la conjugaison des verbes être et avoir au futur. (TRES IMPORTANT)


LUNDI MARDI MERCREDI JEUDI VENDREDI SAMEDI DIMANCHE

Conjugaison : Le Futur de l'indicatif : **être** et **avoir**


PRESENT ————— FUTUR




Aujourd'hui **j'ai** 8 ans.



Dans 1 an **j'aurai** 9 ans



Aujourd'hui **je suis** malade



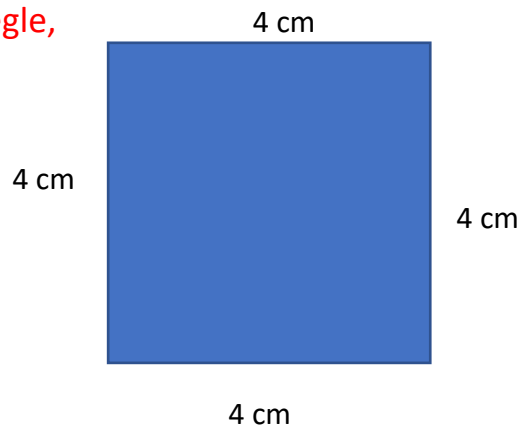
Demain **je serai** guérie.

ÊTRE		AVOIR	
Je	serai	J'	aurai
Tu	seras	Tu	auras
Il/Elle/on	sera	Il/Elle/on	aura
Nous	serons	Nous	aurons
Vous	serez	Vous	aurez
Ils/elles	seront	Ils/elles	auront

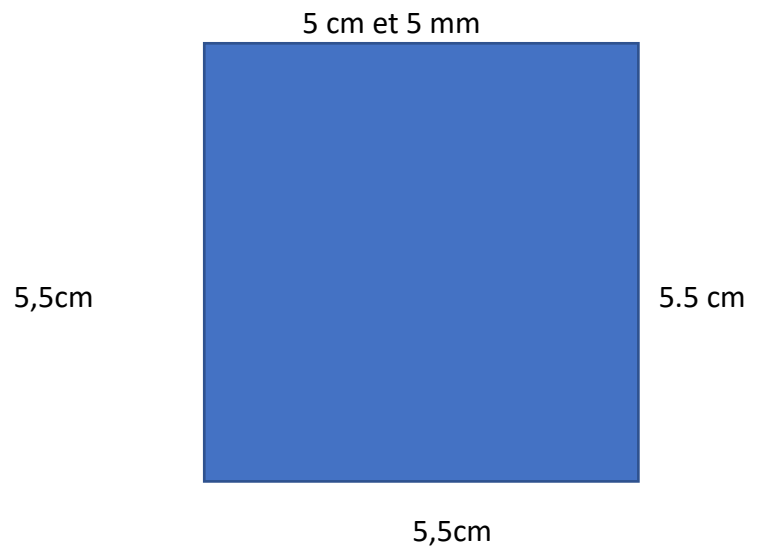


GEOMETRIE : Avec ta règle,

Trace un carré de 4 cm.



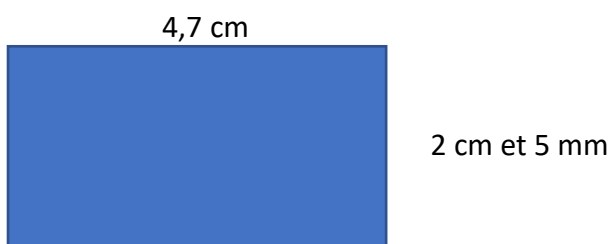
Trace un carré de 5 cm et 5 mm.



Trace un rectangle de longueur 5cm et de largeur 2cm.



Trace un rectangle de longueur 4 cm et 7 mm et de largeur 2,5 cm.



Trace un segment [AB] de 3,2 cm (ou 3cm et 2 mm).



A

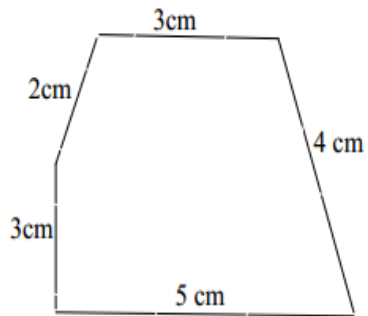
B

Trace un segment [CE] de 7,6 cm.



GRANDEURS ET MESURES : Le périmètre d'un polygone

Calcule le périmètre de ce polygone :



Calcul P (périmètre) = $3 + 4 + 5 + 3 + 2$

$P = 17 \text{ cm}$

Le périmètre de ce polygone est **17 cm**.