

Vendredi 10 avril 2020

1) POESIE : « Poisson, tu dances »

✚ Apprendre la 3^{ème} strophe. (*Petits jusqu'à adorés !*)

✚ Tu peux cliquer sur ce lien ou le recopier, pour l'écouter et pour l'apprendre :

<https://youtu.be/KgUKYGwU13o>

→ La poésie a été donnée le jeudi 2 avril 2020.

2) ORTHOGRAPHE : Le pluriel des noms et des adjectifs

→ (*Nouvelle leçon*)

✚ Tout d'abord, regarde les 2 petites vidéos. Clique sur les liens suivants ou recopie-les :

<https://lesfondamentaux.reseau-canope.fr/discipline/langue-francaise/grammaire/les-noms/le-pluriel-du-nom-1.html>

<https://lesfondamentaux.reseau-canope.fr/discipline/langue-francaise/grammaire/les-noms/le-pluriel-du-nom-2.html>

✚ Ensuite, lis attentivement la leçon :

Le pluriel des noms et des adjectifs

► Pour former le pluriel des noms et des adjectifs, on ajoute généralement un -s à la fin :

Exemple : une petite table → des petites tables

► Les noms ou les adjectifs qui se terminent par -au, -eau, -eu ont un pluriel en -x :

Exemples : un tuyau → des tuyaux, un beau bateau → des beaux bateaux, un jeu → des jeux

Sauf : des pneus, des bleus, des landaus

► Les noms ou les adjectifs qui se terminent par -al font leur pluriel en -aux :

Exemple : un cheval royal → des chevaux royaux

Sauf : des bals, des carnivals, des festivals, des récitals, des régals, des chacals

► Les noms ou les adjectifs en -ou ont un pluriel en -s :

Exemple : un kangourou → des kangourous

Sauf : des choux, des bijoux, des joujoux, des genoux, des cailloux, des hiboux, des poux

► Les noms ou les adjectifs en -s, -x, -z ne changent pas :

Exemples : une souris → des souris, un prix avantageux → des prix avantageux, un nez → des nez

✚ Enfin, fais l'exercice sur ton cahier ou une feuille. Tu peux imprimer la feuille ou écrire l'exercice.

Le pluriel des noms et des adjectifs

Ecris au pluriel les noms et les adjectifs. (Exemple : un beau voyage → des beaux voyages)

- a) un petit chien →
- b) un repas savoureux →
- c) un enfant curieux →
- d) un animal féroce →
- e) un grand arbre →
- f) un gros chou →
- g) un oiseau bleu →
- h) un long nez →

3) **LECTURE** LE RECIT POLICIER ► Lecture d'image

→ En période 4, on travaillera sur le récit policier. Le texte « *Le cow-boy menteur* » a été étudié la semaine dernière. Pour cette semaine, c'est une lecture d'image.

(NB : Une activité en lecture a été envoyée par mail pour le groupe tournesol.)

✚ Observe bien l'image qui se trouve sur le page 3.

LA POLICE SCIENTIFIQUE



Un photographe et une enquêtrice de la police scientifique enquêtent sur un vol.

✚ Fais l'exercice suivant :

La police scientifique

- ✓ Groupes : coquelicot, tulipe → répondre en faisant une phrase.
- ✓ Groupe : marguerite → répondre sans faire de phrase.

Réponds aux questions suivantes après avoir observé l'image.

1. Que portent les personnages et explique pourquoi.

.....
.....
.....

2. Quels indices recherchent ces deux personnes ? Aide-toi de la légende de la photographie (« *Un photographe et une enquêtrice de la police scientifique enquêtent sur un vol* ») pour répondre.

.....
.....

3. A ton avis, qu'indique l'étiquette 6 ?

.....
.....

4) CALCUL : L'addition, la soustraction, la multiplication

- ✚ Révise tes tables
- ✚ Fais l'exercice suivant :

Pose et effectue.

$$749 + 4\,962 + 663 = \dots\dots\dots$$

$$7\,176 - 3\,580 = \dots\dots\dots$$

$$6\,473 \times 7 = \dots\dots\dots$$

5) GEOMETRIE : Le triangle et le triangle rectangle (Nouvelle leçon)

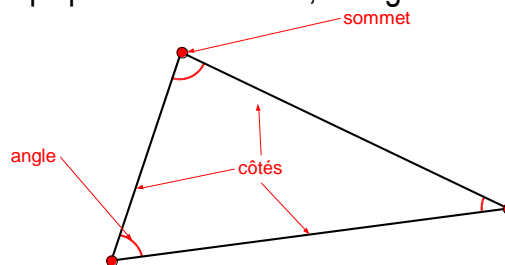
✚ Tout d'abord, regarde les petites vidéos. Clique sur ces liens ou recopie-les :
<https://lesfondamentaux.reseau-canope.fr/discipline/mathematiques/geometrie-du-plan/distinguer-triangle-et-quadrilatere/distinguer-triangle-et-quadrilatere.html> → sur le triangle

<https://youtu.be/bYej0-HTzNU> → sur le triangle rectangle

- ✚ Ensuite, lis attentivement la leçon.

Le triangle et le triangle rectangle

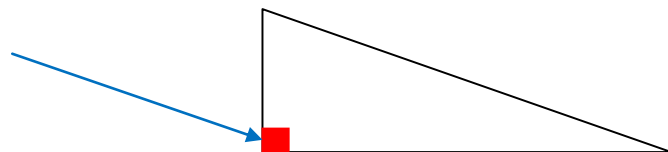
- Un **triangle** est un polygone qui possède : 3 côtés, 3 angles et 3 sommets.



Un triangle qui n'a ni angle droit, ni côtés égaux, est appelé triangle quelconque.

- **Le triangle rectangle :**

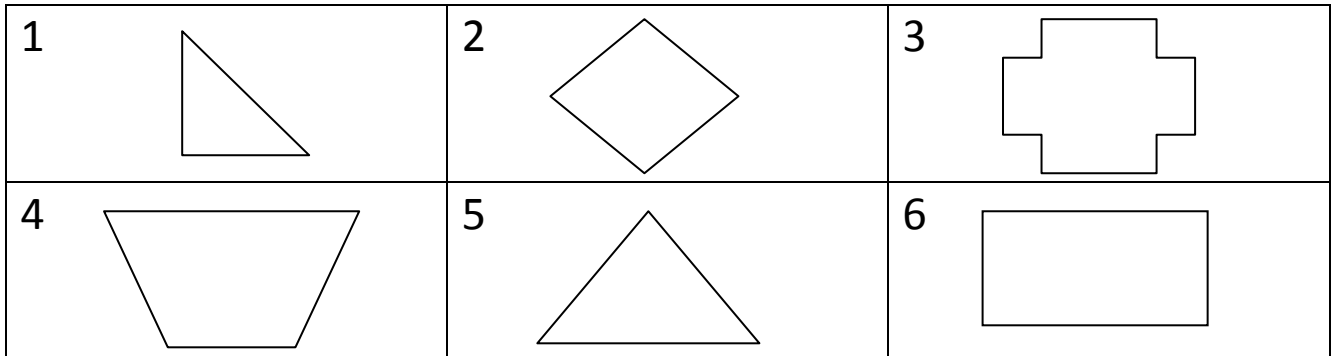
Le triangle rectangle possède un angle droit.



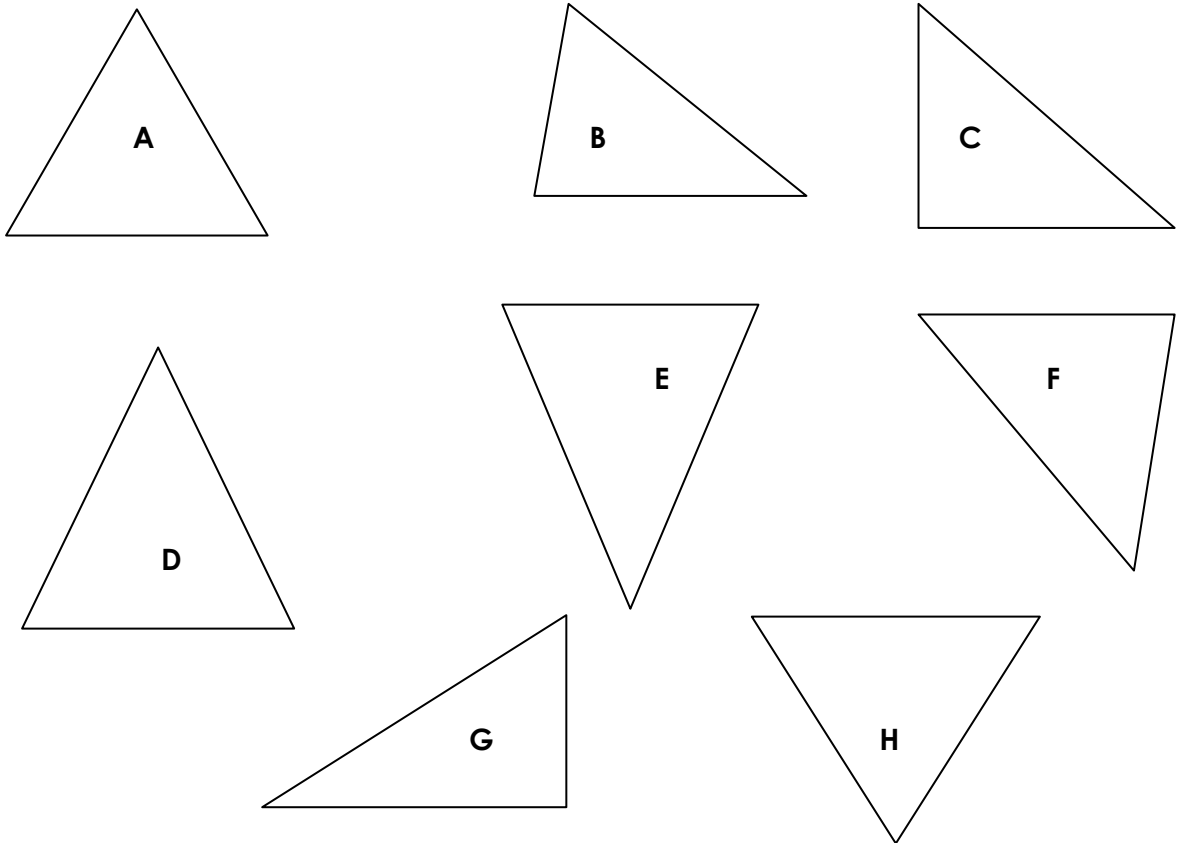
- ✚ Enfin, fais les exercices.

Le triangle et le triangle rectangle

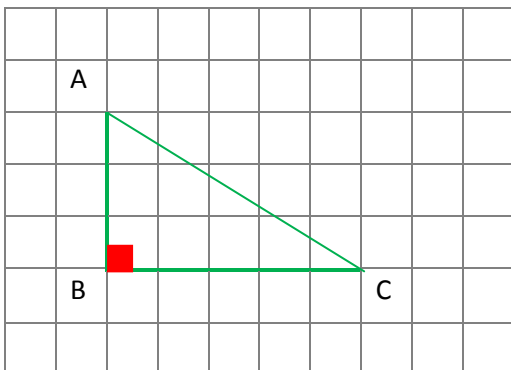
1. Parmi ces polygones, indique ceux qui sont des triangles.



2. Parmi ces triangles, indique ceux qui sont des triangles rectangles.




3. Observe ce triangle et complète les phrases.



- [AB] est un
- A est du triangle.
- C'est un triangle car il y a un angle en B.

6) PROBLEME

 Résous le problème suivant :

Le gardien du zoo peint le mot **KANGOUROU** sur une pancarte. Il peint une lettre chaque jour. Il commence un jeudi.

Quel jour peindra-t-il la dernière lettre ?

A) mardi

B) mercredi

C) jeudi

D) vendredi

E) samedi