




ATTENTION :

- Les leçons doivent être recopiées mais pas photographiées.
- Uniquement les exercices avec le petit appareil photo doivent être photographiés pas les autres !

MUSIQUE	<p>Ecoute musicale : Découvrir les genres musicaux Le blues :</p> <p>ETAPE 1 : Ecouter chaque chanson https://www.youtube.com/watch?v=4WPCBieSESI https://www.youtube.com/watch?v=0rEsVp5tiDQ</p> <p>ETAPE 1 : Quand tu écoutes ces chansons, cela te fait penser à quoi ? Quel sentiment as tu ? (La tristesse, la joie, la colère,)</p>
CONJUGUAISON	<p>Evaluation : Le futur de l'indicatif.</p> <p>Remplir le formulaire en ligne : Voici le lien : https://docs.google.com/forms/d/e/1FAIpQLSccEkGDxsnOL9FHDHWF0gTSn63Oy12ukjmjVolBemNZzUjSvq/viewform</p>
DICTEE DE MOTS	<p>Dictée de mots invariables : Colonne 3 (Voir document annexe)</p> <p>ETAPE 1 : Préparer la dictée 10 à 15 minutes ETAPE 2 : Demander à un adulte de faire la dictée. ETAPE 4 : S'autocorriger.</p>
GRANDEURS ET MESURES.	<p>Objectif : Lecture de l'heure :</p> <p style="text-align: center;">REVISION EN VUE DE L'EVALUATION DE LUNDI</p> <p>Faire Fiche activité 1</p>
CALCUL OPERATOIRE	<p>Objectif : Division posée:</p> <p>Faire Fiche activité 2</p>

FICHE ACTIVITE 1 : GRANDEURS ET MESURES

Consigne :



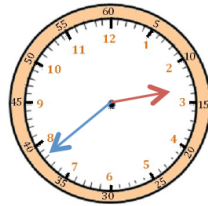
La semaine prochaine, il y a aura une evaluation sur l'heure :

- La première partie sera de lire l'heure : classe virtuelle.
- La deuxième partie sera d'indiquer la position des aiguilles sur l'orloge sur document à photographier.

Il faut donc relire sa leçon, revisionner les vidéos sur la lecture de l'heure, regarder la correction des exercices afin de préparer au mieux cette évaluation.

Exercice 1 : Ecris l'heure du matin et l'heure de l'après midi.

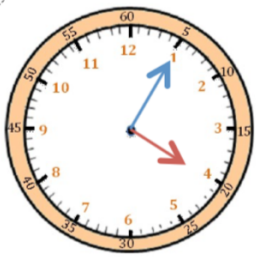
exemple :



Il est 2 h 38 min.

Il est 14 h 38 min.

Même si l'aiguille est très proche du 3, il est toujours 2 heures car la petite aiguille est entre le 2 et le 3



Il est ___ h ___ min.

Il est ___ h ___ min.



Il est ___ h ___ min.

Il est ___ h ___ min.



Il est ___ h ___ min.

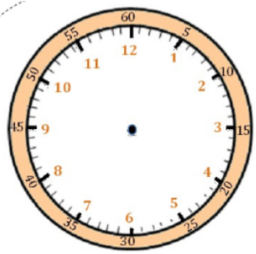
Il est ___ h ___ min.



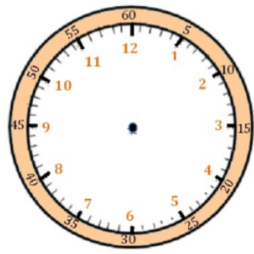
Il est ___ h ___ min.

Il est ___ h ___ min.

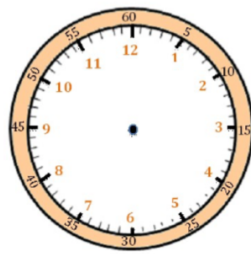
Exercice 2 : Indique l'heure sur ces horloges.



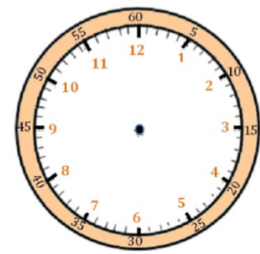
Il est 21 h 14 min.



Il est 9 h 38 min.



Il est 14 h 22 min.



Il est 15 h 03 min.

