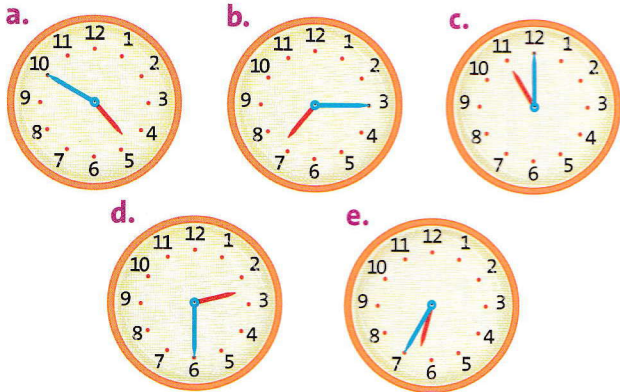


Lire l'heure sur une montre à aiguilles

2 * Pour chaque horloge, indique l'heure.



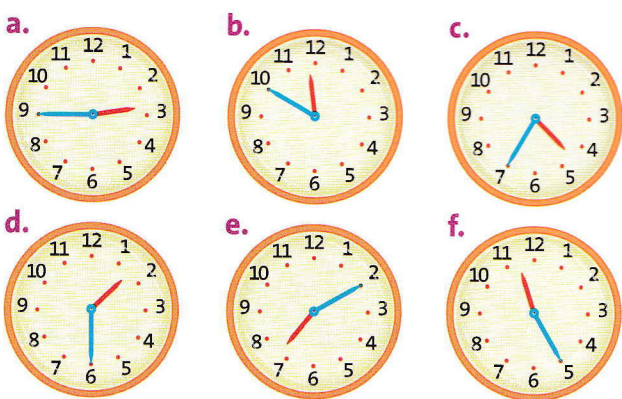
3 * Pour chaque horaire, indique sur quel nombre se trouve la petite aiguille.

- a. 15 h c. 13 h e. 19 h
b. 21 h d. 23 h

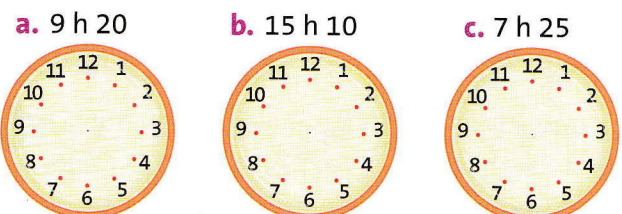
4 * Pour chaque horaire, indique sur quel nombre se trouve la grande aiguille.

- a. 4 h 55 c. 8 h 05 e. 6 h 15
b. 15 h 20 d. 22 h 40

5 * Pour chaque horloge, indique l'heure du matin et l'heure de l'après-midi.



6 * Reproduis ces horloges et place les aiguilles (une petite aiguille rouge pour les heures, une grande aiguille bleue pour les minutes) en fonction des heures indiquées.




PROBLÈMES


7 * À quelle heure le spectacle de danse va-t-il commencer ?



8 * Indique l'heure de départ et l'heure d'arrivée de cet avion.



9 * Quels sont les horaires de cette école ?



À toi de jouer

Cette montre à 5 minutes d'avance. Quelle heure est-il en réalité ?

