

Nom :

Date :

Exercices

Les quadrilatères

1 Vrai ou faux. Colorie la bonne réponse.

Un quadrilatère a toujours 4 côtés

V	F
---	---

Un losange est un quadrilatère.....

V	F
---	---

Tous les quadrilatères ont 4 angles droits

V	F
---	---

Un quadrilatère a plus de côtés que de sommets

V	F
---	---

Les quadrilatères sont tous des polygones

V	F
---	---

2 Qui suis-je ?

A : • J'ai 4 côtés égaux.
• Je n'ai pas d'angle droit.

Je suis un

B : • J'ai 4 côtés égaux.
• J'ai 4 angles droits.

Je suis un

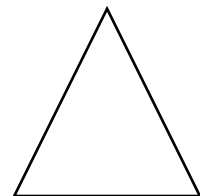
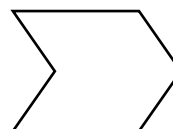
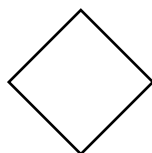
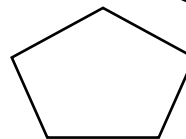
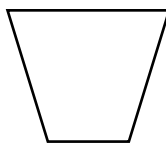


A : • J'ai 4 côtés opposés égaux 2 à 2.
• J'ai 4 angles droits.

Je suis un

A : • J'ai 4 côtés tous différents.
• Je n'ai pas d'angle droit.

Je suis un

3 Colorie les quadrilatères.



Nom :

Date :

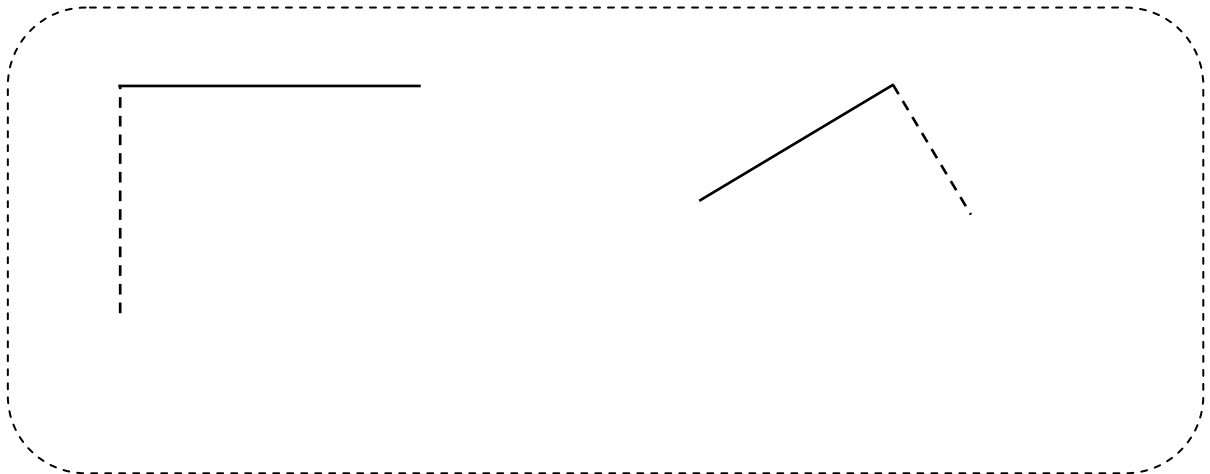
Exercices

Les quadrilatères

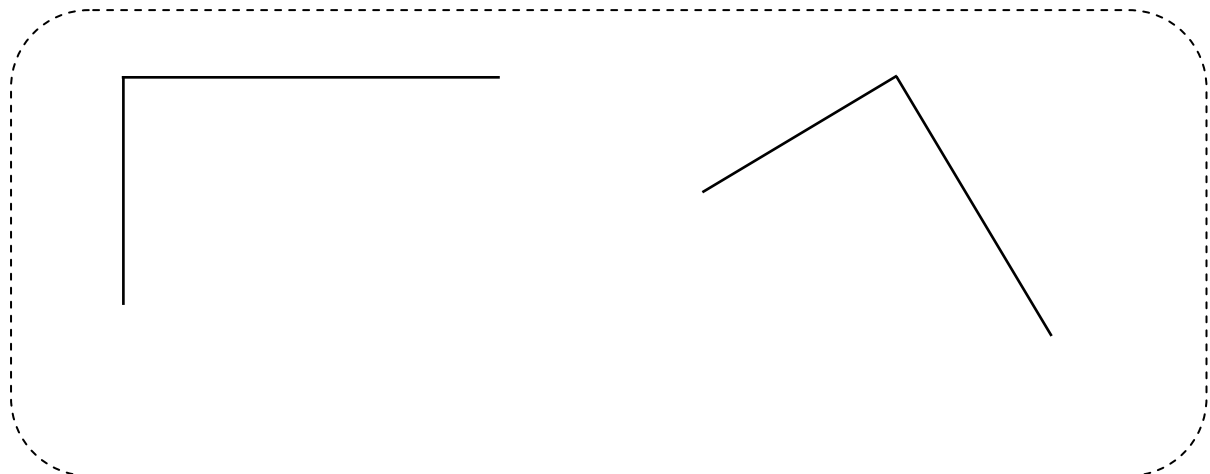
4 Complète le tableau en traçant une croix si l'affirmation est exacte.

	Carré	losange	Rectangle
4 côtés			
Côtés opposés de même longueur			
4 angles droits			

5 Construction : complète les figures avec ton équerre pour obtenir 2 carrés.



6 Construction : complète les figures avec ton équerre pour obtenir 2 rectangles.



Nom :

Date :

Corrigé

Les quadrilatères

1 Vrai ou faux. Colorie la bonne réponse.

Un quadrilatère a toujours 4 côtés V FUn losange est un quadrilatère..... V FTous les quadrilatères ont 4 angles droits V FUn quadrilatère a plus de côtés que de sommets V FLes quadrilatères sont tous des polygones V F

2 Qui suis-je ?

A : • J'ai 4 côtés égaux.
• Je n'ai pas d'angle droit.

Je suis un losange

B : • J'ai 4 côtés égaux.
• J'ai 4 angles droits.

Je suis un carré

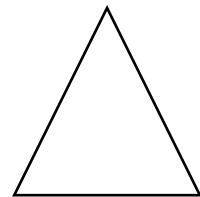
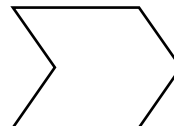

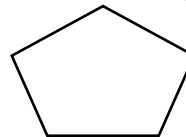
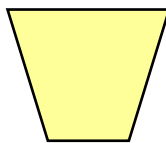


A : • J'ai 4 côtés opposés égaux 2 à 2.
• J'ai 4 angles droits.

Je suis un rectangle

A : • J'ai 4 côtés tous différents.
• Je n'ai pas d'angle droit.

Je suis un quadrilatère quelconque

3 Colorie les quadrilatères.



Nom :

Date :



Corrigé

Les quadrilatères et les parallélogrammes

4 Complète le tableau en traçant une croix si l'affirmation est exacte.

	Carré	losange	Rectangle
4 côtés	X	X	X
Côtés opposés de même longueur	X	X	X
4 angles droits	X		X

5 Construction : complète les figures avec ton équerre pour obtenir 2 carrés.



6 Construction : complète les figures avec ton équerre pour obtenir 2 rectangles.

