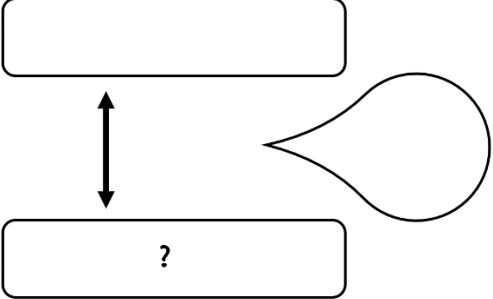


Problème 1 :

Pierre a 56 timbres de collection. Il en possède 24 de plus que Sophie.

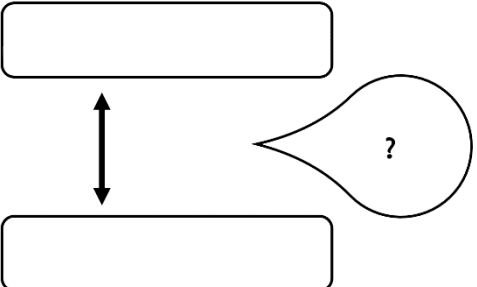
Combien Sophie a-t-elle de timbres ?

Recherche	Réponse
	Sophie a .....timbres.

Problème 2 :

Dans un magasin, un jouet vaut 24 €. Il vaut 65 € dans un autre magasin.

De combien est-il plus cher dans le 2<sup>ème</sup> magasin ?

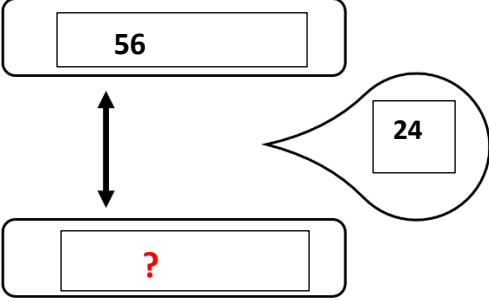
Recherche	Réponse
	Dans le 2 <sup>ème</sup> magasin, le jouet coûte .....de plus que dans le premier.

Correction :

Problème 1 :

Pierre a 56 timbres de collection. Il en possède 24 de plus que Sophie.

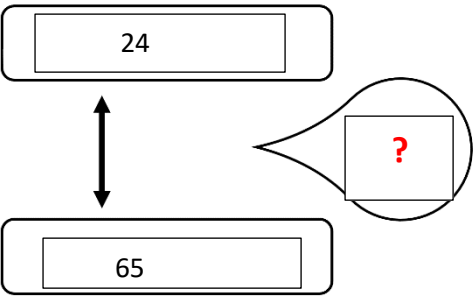
Combien Sophie a-t-elle de timbres ?

Recherche	Réponse
 <p><math>56 - 24 = 32</math></p>	Sophie a <b>32</b> timbres.

Problème 2 :

Dans un magasin, un jouet vaut 24 €. Il vaut 65 € dans un autre magasin.

De combien est-il plus cher dans le 2<sup>ème</sup> magasin ?

Recherche	Réponse
 <p><math>65 - 24 = 41</math></p>	Dans le 2 <sup>ème</sup> magasin, le jouet coûte 41 euros de plus que dans le premier.