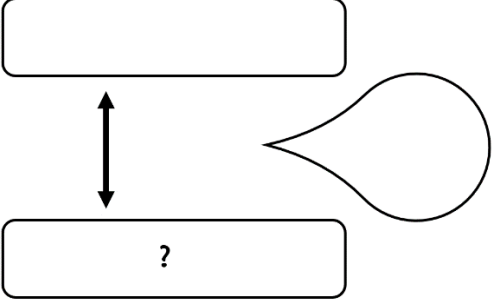


Problème 1 :

Théo a 60 euros dans sa tirelire. Il a 40 euros de moins que son frère Mathis.

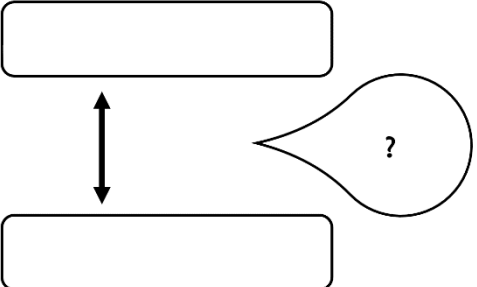
Combien d'argent Mathis a-t-il dans sa tirelire ?

Recherche	Réponse
	Mathis a Euros dans sa tirelire.

Problème 2 :

Théo a 65 euros dans sa tirelire. Son frère Mathis a 9 euros.

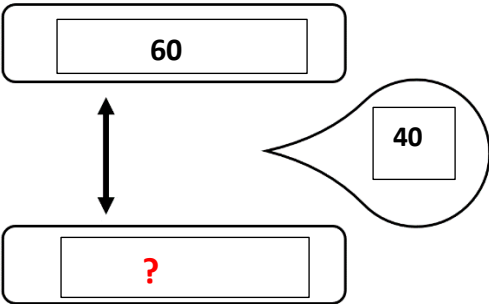
Combien d'argent Mathis a-t-il de moins dans sa tirelire ?

Recherche	Réponse
	Mathis aeuros de moins dans sa tirelire.

Correction :

Théo a 60 euros dans sa tirelire. Il a 40 euros de moins que son frère Mathis.

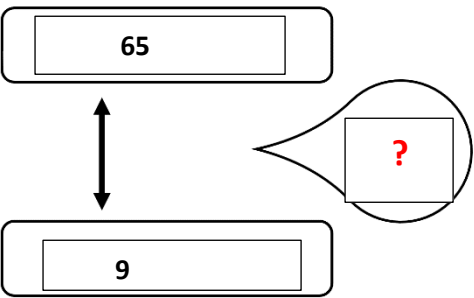
Combien d'argent Mathis a-t-il dans sa tirelire ?

Recherche	Réponse
 <p>$60 + 40 = 100$</p>	Mathis a 100 euros dans sa tirelire.

Problème 2 :

Théo a 65 euros dans sa tirelire. Son frère Mathis a 9 euros.

Combien d'argent Mathis a-t-il de moins dans sa tirelire ?

Recherche	Réponse
 <p>$65 - 9 = 56$</p>	Mathis a 56 euros de moins dans sa tirelire.