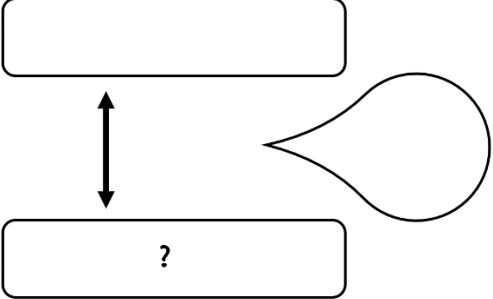


Problème 1 :

M. Dupont travaille au 13ème étage d'une tour. C'est 5 étages plus haut que le bureau de M. Durand.

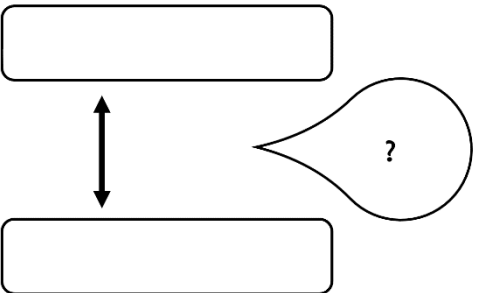
A quel étage est le bureau de M. Durand ?

Recherche	Réponse
	<p>Le bureau de M.Durand est au .....ème étage.</p>

Problème 2 :

M. Dupont travaille au 18ème étage d'une tour. M. Durand travaille au 26ème étage d'une tour.

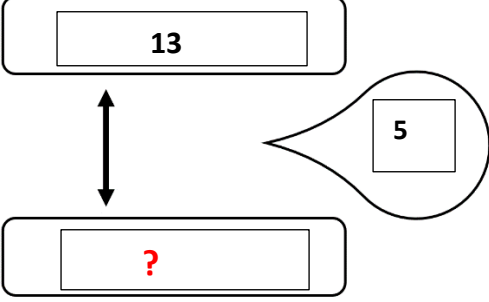
Le bureau de M. Durand se trouve combien d'étages plus haut que celui de M. Dupont ?

Recherche	Réponse
	<p>Le bureau de M. Durand se trouve .....étages plus haut que celui de M. Dupont.</p>

Correction :

M. Dupont travaille au 13<sup>ème</sup> étage d'une tour. C'est 5 étages plus haut que le bureau de M. Durand.

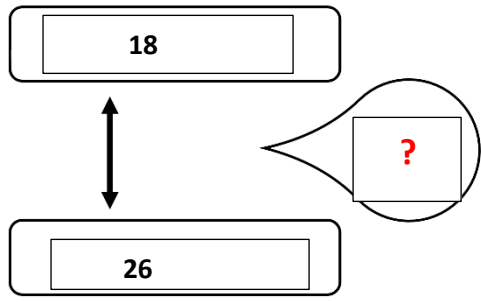
A quel étage est le bureau de M. Durand ?

Recherche	Réponse
 <p><math>13 - 5 = 8</math></p>	<p>Le bureau de M. Durand est au 8<sup>ème</sup> étage.</p>

Problème 2 :

M. Dupont travaille au 18<sup>ème</sup> étage d'une tour. M. Durand travaille au 26<sup>ème</sup> étage d'une tour.

Le bureau de M. Durand se trouve combien d'étages plus haut que celui de M. Dupont ?

Recherche	Réponse
 <p><math>26 - 18 = 8</math></p>	<p>Le bureau de M. Durand se trouve 8 étages plus haut que celui de M. Dupont.</p>