

Prenom :



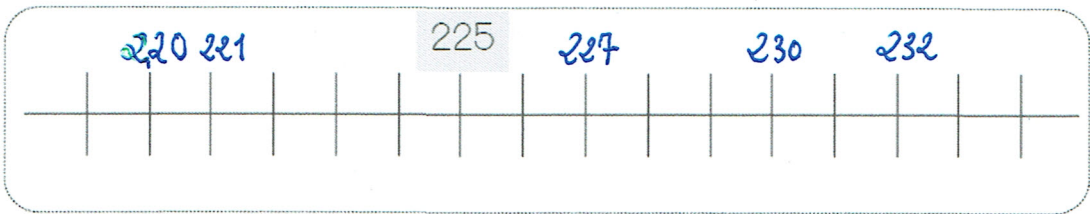
# Numération

Fiche 1

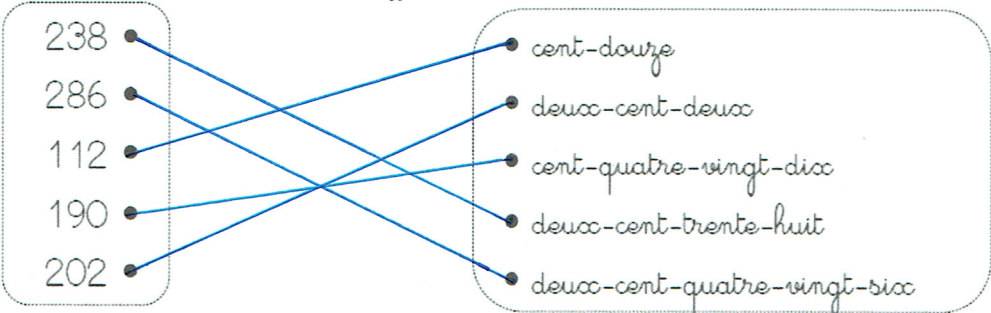
Les nombres de 100 à 299

1 Place les nombres suivants sur la ligne graduée :

221, 227, 230, 232, 220



2 Relie les nombres écrits en chiffres à leur écriture en lettres.



3 Écris ces nombres en lettres.

196 : cent-quatre-vingt-seize


252 : deux-cent-cinquante-deux

281 : deux-cent-quatre-vingt-un



4 Dessine le bon nombre de centaines, de dizaines et d'unités.

135



251

