


1 Ecris le nombre de hérissons de plusieurs façons :

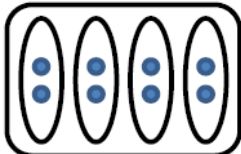
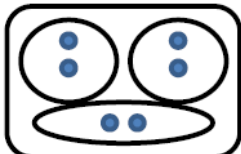
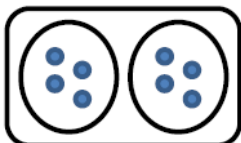


___ + ___ + ___ = ___

___ + ___ + ___ + ___ + ___ = ___

On peut aussi écrire : ___ x ___ ou ___ x ___

2 Relie chaque dessin à la multiplication qui convient :



4 x 2

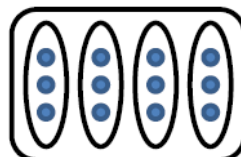
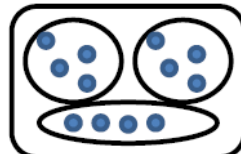
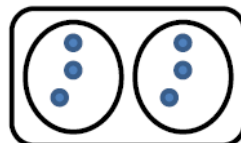
2 x 3

3 x 2

3 x 4

2 x 4

4 x 3



Problème :

Un poulet rôti a 2 cuisses.
Maman a acheté 3 poulets.
Combien y a-t-il de cuisses en tout?

dessin ou calcul :

phrase réponse :
