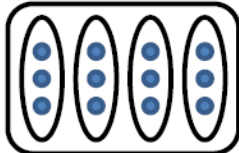
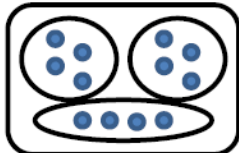
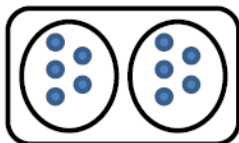


1 Ecris le nombre de hérissons de plusieurs façons :



$_ _ _ + _ _ _ = _ _ _$
 $_ _ _ + _ _ _ + _ _ _ + _ _ _ + _ _ _ = _ _ _$
 On peut aussi écrire : $_ _ _ \times _ _ _$ ou $_ _ _ \times _ _ _$

2 Relie chaque dessin à la multiplication qui convient:



4×3

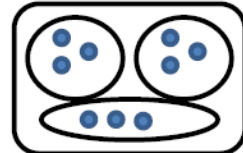
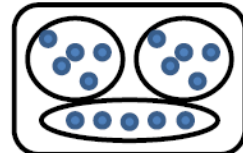
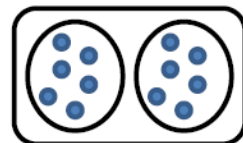
3×3

2×6

2×5

3×5

3×4



Problème :

Dans la classe de Julie, la maîtresse a fait 3 groupes de 6 élèves.
Combien y a-t-il d'élèves dans cette classe?

dessin ou calcul :

phrase réponse :
